



$$\left[\begin{array}{c} \textit{Mathematics} \\ 10 + 11 + 12 \end{array} \right]$$

مبلغی که امروز بابت خرید این کتاب می پردازید! در مقابل هزینه‌هایی که در آینده بابت خواندن آن پرداخت خواهید کرد، بسیار ناچیز است ...

مقدمه فولفینس

آنچه که انجام می‌دهیم، برگزیده نمی‌شود، بلکه فقط ستایش یا تهنیت می‌شود.

فردریش نیچه - حکمت شادان

S. Azemati



A. Monsef Shokri

به جای نوشتن مقدمه طول و دراز و تشکر از فک و فامیل و ایل و تبار خودمان و دست‌اندرکاران کتاب بهتر است توضیحاتی کوتاه و مهم درباره ساخت و بافت این کتاب و ویژگی‌های خاص این کتاب نست به سایر کتاب‌های موجود در بازار ارائه کنیم:

1 طراحی و معماری داخلی بسیار زیبا جذاب و مورد پسند دانش‌آموزان و معلمان و مشاوران

2 استفاده مناسب و حرفه‌ای از رنگ در ساختار درسی که فرآیند یادگیری را بسیار ساده‌تر، جذاب‌تر و سریع‌تر می‌کند.

3 تیپ‌بندی بسیاری از مباحث برای سهولت در یادگیری

4 تطابق کامل و نقطه به نقطه با کتاب بانک تست ریاضی تجربی جامع کنکور [نسل جدید]

5 بررسی کامل تمام تمرینات و متن کتاب درسی و همچنین اشکال، نمودارها و کلید واژه‌ها

6 بررسی تست‌های کنکور چند دهه اخیر به خصوص نظام جدید آموزش و استخراج نکات کلیدی مطرح شده در آن‌ها.

7 بررسی کامل کتاب راهنمای معلم و استخراج نکات کلیدی آن.

8 آموزش راه‌ها و شیوه‌های میان‌بر در حل تست که بسیاری از کتاب‌های کمک‌آموزشی از بیان آن‌ها [به دلایل متعدد] پرهیز می‌کنند.

9 *user friendly* بودن کتاب برای دانش‌آموزان با هر سطحی از معلومات.

10 کتاب یک ویژگی دیگر هم دارد که ربطی به ۹ ویژگی اول ندارد و در گوشه‌ای از کتاب پنهان است و امکان کشف آن تا قبل از ۱۵ اسفند ۱۴۰۰ وجود

ندارد و حداکثر ۸ نفر ممکن است این راز را کشف کنند، اگر شما یکی از این ۸ نفر هستید در اینستاگرام این ویژگی را در دایرکت برای من بفرستید و ۸ جلد از

کتاب‌های **دور دنیا در نیم ساعت** ویژه کنکور ۱۴۰۱ را هدیه بگیرید.

علی منصف سگرمی - سجاد عظمتی

نظرات خود را درباره ویژگی دهم با ما در اینستاگرام درمیان بگذارید.

 alimonsef_shokri

 sajad.azemati



Arian.Heidari

کارشناس ارشد علمی :

مهندس آریان حیدری

arianheidarioriginal

مولف همکار: مهندس محمد جواد لطفی

کارشناس علم


- M. Samadi مهندس میثم صمدی
- M. Askari مهندس محمد عسکری
- M. A. Karimi مهندس محمد امین کریمی
- S. Banihashemi مهندس سعید بنی هاشمی
- S. Roshani مهندس سوگند روشنی
- A. Selseleh مهندس امین سلسله
- B. Golzari مهندس بهروز گلزاری
- S. Amoozadeh مهندس سالار عموزاده
- M. Amin مهندس میثم امین

ویراستار علم

کارشناسی محتوی: مهندس علی عبدی پور

سرپرست تیم ویراستاران مهندس توحید فرهودی


- A.KHavanin Zadeh مهندس امین خوانین زاده
- A.Haghnazar مهندس امیر حق نظر
- A.H . Shokri مهندس امیر حسام شکری
- M.H . Mokhtari مهندس محمد حسین مختاری
- M.R.Safavi مهندس سید محمدرضا صفوی
- M. Arbab bahrami مهندس محمد ارباب بهرامی
- Dr.S.Azizi دکتر سعید عزیزی
- A.Saravani مهندس علیرضا سراوانی



Bertrand Russell

1872-1970

همه چیز دارن، فیلسوف، منطق دارن، ریاضی دارن، مورخ، جامعه شناس، نویسنده، فعال سیاسی، برنده جایزه ادبی نوبل و فعال صلح طلب بریتانیایی بود. راسل، یکی از فیلسوفان برجسته قرن بیستم به شمار می رود. او را به همراه کولتوب فرکه و لودویگ ویتگنشتاین، از بنیانگذاران فلسفه تحلیلی می دانند. او به همراه آلفرد نورث وایچد سعی کرد تا با تلاشی بسیار زیاد و با کمک منطق کلاسیک، بنیانی منطقی برای ریاضیات بنا کند. کارهای او اثرات قابل توجهی بر روی ریاضیات، منطق، نظریه مجموعه ها، زبان شناسی، هوش مصنوعی، علوم شناختی، علم کامپیوتر و فلسفه به ویژه فلسفه زبان، معرفت شناسی و متافیزیک گذاشت. برتراند راسل، در سال ۱۹۵۰، به پاس «آثار متعدد در حمایت از نوع دوستی و آزادی اندیشه»، برنده جایزه نوبل ادبیات شد.



مجموعه، اَلکو و دنباله


Remind yourself of *humanity*, not man! every animal know how to reproduce

Set, Pattern & Sequence

Contents

Chapter 1

- درس اول: مجموعه های متناهی و نامتناهی
- درس دوم: متمم یک مجموعه
- درس سوم: اَلکو و دنباله
- درس چهارم: دنباله های حسابی و هندسی



Set, Pattern & Sequence

Chapter 1

Lesson 1 صفحه ۷ تا ۷ کتاب دهم مجموعه‌های متناهی و نامتناهی درس اول



Bertrand Russell

مجموعه، الگو و دنباله

معرفی مجموعه‌های مهم

مجموعه را دسته‌ای از اشیای متمایز و خوش تعریف در نظر می‌گیرند. [نوش تعریف به معنی آن است که بدون تردید و به یقین بتوان گفت که شیء معینی در مجموعه هست یا نه].

• دانش‌آموزان پایه یازدهم تهران یک مجموعه محسوب می‌شود.

• دانش‌آموزان قد بلند تهران مجموعه نیست. چون قد بلند خوش تعریف نیست. [یعنی به یقین نمی‌توان گفت که از چه قدی به بالا (قد بلند) محسوب می‌شود، چون قد بلند یک چیز سلیقه‌ای است و معیار مشخص ندارد].

انواع نمایش مجموعه‌ها

نمایش هندسی	نمایش به نماد ریاضی	نمایش به اعضا
اعضای مجموعه را درون یک خم بسته در صفحه مانند مستطیل، دایره و... قرار می‌دهیم که به آن نمودار ون گفته می‌شود.	به جای نوشتن اعضاء، ویژگی مشترک بین آن‌ها را می‌نویسیم.	اعضای مجموعه را به صورت مرتب یا نامرتب درون یک جفت آکولاد نمایش می‌دهیم.
	$A = \{2k-1 : k \in \mathbb{N}, 1 \leq k \leq 5\}$	$A = \{1, 3, 5, 7, 9\}$

• ترتیب اعضا در مجموعه اهمیتی ندارد. یعنی جابه‌جایی اعضا، مجموعه را تغییر نمی‌دهند. $\{1, 2, 3\} = \{3, 1, 2\} = \{2, 1, 3\}$

• عضوهای تکراری در مجموعه شمرده نمی‌شوند. $\{1, 2, 3\} = \{1, 1, 1, 2, 2, 2, 3, 3, 3\}$

مجموعه‌های مهم اعداد

اعداد طبیعی	$\mathbb{N} = \{1, 2, 3, \dots\}$		اعداد گویا	$\mathbb{Q} = \{\frac{m}{n} m, n \in \mathbb{Z}, n \neq 0\}$
اعداد صحیح	$\mathbb{W} = \{0, 1, 2, 3, \dots\}$		اعداد نرنگ	$\mathbb{Q}' = \{x x \notin \mathbb{Q}\}$
اعداد صحیح	$\mathbb{Z} = \{\dots, -2, -1, 0, 1, 2, 3, \dots\}$		اعداد حقیقی	$\mathbb{R} = \mathbb{Q} \cup \mathbb{Q}'$

مجموعه اعداد حقیقی را با \mathbb{R} نمایش می‌دهند و شامل همه اعداد گویا و گنگ است. بنابراین روابط زیر برقرار است:

$$\mathbb{R} = \mathbb{Q} \cup \mathbb{Q}' \quad \mathbb{R} - \mathbb{Q} = \mathbb{Q}' \quad \mathbb{R} - \mathbb{Q}' = \mathbb{Q}$$

• برای یافتن تفاضل دو مجموعه، عضوهای مشترک را حذف کرده و فقط اعضایی که در مجموعه اول باقی می‌مانند را انتخاب می‌کنیم.

Test چه تعداد از رابطه‌های زیر در مجموعه اعداد حقیقی درست است؟

$(\mathbb{R}-\mathbb{N}) \subseteq \mathbb{Q}'$ (۴) $(\mathbb{W}-\mathbb{N}) \subseteq \mathbb{Q}$ (۳) $\mathbb{Z} \subseteq \mathbb{Q}'$ (۲) $\mathbb{Q} \cup \mathbb{Q}' = \mathbb{R}$ (۱)

2 به بررسی موارد می‌پردازیم:

- اجتماع \mathbb{Q} و \mathbb{Q}' برابر \mathbb{R} است ✓
- می‌دانیم $\mathbb{Z} \subseteq \mathbb{Q}$ است، پس \mathbb{Z} نمی‌تواند زیرمجموعه \mathbb{Q}' باشد. ✗
- می‌دانیم $\mathbb{W}-\mathbb{N} = \{0\}$ که زیرمجموعه‌ای از \mathbb{Q} است. ✓
- می‌دانیم $\mathbb{R}-\mathbb{N}$ شامل همه اعداد گویا و گنگ غیر طبیعی است، پس نمی‌تواند زیرمجموعه \mathbb{Q}' باشد. ✗

Set, Pattern & Sequence

انواع بازه

مجموعه، الگو و دنباله

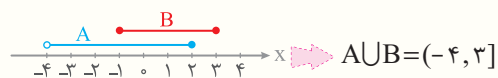
بازه‌ها، زیرمجموعه‌هایی از \mathbb{R} هستند که برای نمایش همه اعداد حقیقی بین دو عدد، یا اعداد حقیقی بزرگتر یا کوچکتر از یک عدد، از آن‌ها استفاده می‌کنیم. انواع بازه‌ها عبارت‌اند از:

نمایش مجموعه‌ها	نمایش هندسی	اعضا	نوع بازه	بازه
$\{x \in \mathbb{R} a < x < b\}$		اعداد حقیقی بین a و b	باز	(a, b)
$\{x \in \mathbb{R} a < x \leq b\}$		اعداد حقیقی بین a و b و خود b	نیم‌باز	(a, b]
$\{x \in \mathbb{R} a \leq x < b\}$		اعداد حقیقی بین a و b و خود a	نیم‌باز	[a, b)
$\{x \in \mathbb{R} a \leq x \leq b\}$		اعداد حقیقی بین a و b و خود a و b	بسته	[a, b]
$\{x \in \mathbb{R} x > a\}$		اعداد حقیقی بزرگتر از a	باز	(a, +∞)
$\{x \in \mathbb{R} x \leq b\}$		اعداد حقیقی کوچکتر مساوی با b	نیم‌باز	(-∞, b]
$x \in \mathbb{R}$		تمام اعداد حقیقی (R)	باز	(-∞, +∞)

Test اگر $A = (-4, 2]$ و $B = [-1, 3]$ باشد، حاصل $(A \cup B) \cap \mathbb{N}$ کدام است؟

$\{0, 2\}$ (۱) $\{2, 3\}$ (۲) $\{0, 1, 2\}$ (۳) $\{1, 2, 3\}$ (۴)

4 با کمک نمایش هندسی بازه‌های A و B مجموعه $A \cup B$ را تعیین می‌کنیم:



اشتراک $(-4, 3]$ و مجموعه اعداد طبیعی (\mathbb{N}) به صورت $\{1, 2, 3\}$ است.

Set, Pattern & Sequence

مجموعه‌های متناهی و نامتناهی

مجموعه، الگو و دنباله

مجموعه‌ای که تعداد اعضای آن با شمردن به دست آید، **مجموعه متناهی** نام دارد؛ حتی اگر شمردن تعداد اعضای آن سخت و زمان‌گیر باشد. به بیان دیگر تعداد اعضای مجموعه متناهی، عددی **حسابی** است.

• مجموعه اعداد طبیعی زوج یک رقمی به صورت $\{2, 4, 6, 8\}$ است. که یک مجموعه متناهی است.

مجموعه‌ای که متناهی نباشد، یعنی تعداد اعضای آن حتی با صرف زمان خیلی زیاد و امکانات کافی هم قابل شمردن نباشد، **مجموعه نامتناهی** نام دارد. در واقع تعداد اعضای مجموعه نامتناهی، با یک عدد حسابی قابل بیان نیست و از هر عددی که در نظر بگیریم، بزرگتر است.

• مجموعه مضارب طبیعی عدد ۵، به صورت $\{5, 10, 15, \dots\}$ است. که یک مجموعه نامتناهی است.

مجموعه‌های اعداد حقیقی، گویا، گنگ، صحیح، طبیعی و حسابی همگی مجموعه‌های نامتناهی هستند.

به کمک جدول زیر متوجه می‌شویم که ترکیب مجموعه‌های متناهی و نامتناهی چه ویژگی دارد:

وضعیت مجموعه	A و B متناهی	A و B نامتناهی	A متناهی و B نامتناهی
$A \cup B$	متناهی	نامتناهی	نامتناهی
$A \cap B$	متناهی	نامتخص	متناهی
$A - B$	متناهی	نامتخص	متناهی
$B - A$	متناهی	نامتخص	نامتناهی

Test چه تعداد از مجموعه‌های زیر نامتناهی است؟


- اعداد اول کوچکتر از ۱۰
 - اعداد گویای موجود در بازه $[4, 5]$
 - اعداد طبیعی دو رقمی ضرب ۵
 - مقسوم‌علیه‌های طبیعی عدد ۱۰۰
 - اعداد اول کوچکتر از ۱۰
 - اعداد گویای موجود در بازه $[4, 5]$
 - اعداد طبیعی دو رقمی ضرب ۵
 - مقسوم‌علیه‌های طبیعی عدد ۱۰۰
- ۱ به بررسی موارد می‌پردازیم:
- این مجموعه به صورت $\{2, 3, 5, 7\}$ است که متناهی است. **x**
 - این مجموعه به صورت $\{10, 15, \dots, 95\}$ است که متناهی است. **x**
 - بیشمار عدد گویا در بازه $[4, 5]$ وجود دارد؛ پس نامتناهی است. **✓**
 - این مجموعه به صورت $\{1, 2, 4, 5, \dots, 100\}$ است که متناهی است. **x**

Lesson 2

صفحه ۸ تا ۱۳ کتاب دهم

متمم یک مجموعه

درس دوم



Bertrand Russell

Set, Pattern & Sequence

مجموعه‌های تهی، مرجع، متمم

مجموعه، الگو و دنباله

مجموعه‌ای که هیچ عضوی نداشته باشد، مجموعه تهی نامیده می‌شود و با نماد \emptyset یا $\{\}$ نشان داده می‌شود.

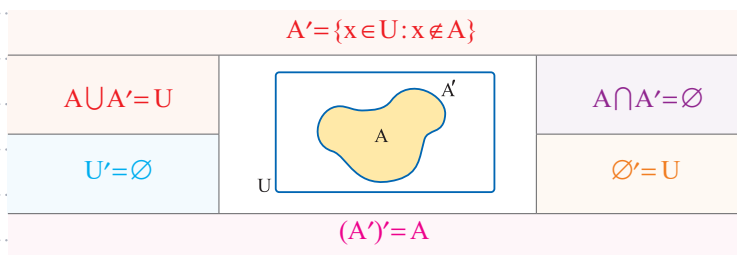
$$\emptyset = \{x \mid x \neq x\}$$

مجموعه $\{\emptyset\}$ یک مجموعه تک‌عضوی است و با مجموعه \emptyset متفاوت است.

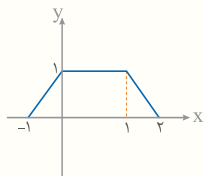
$$\{\emptyset\} = \{\{\}\}$$

هر مجموعه معمولاً به صورت $\{ \text{شرطی، درباره } x, x \in U \}$ معرفی می‌شود. به مجموعه U که x ها از درون آن انتخاب می‌شوند، مجموعه مرجع گفته می‌شود.

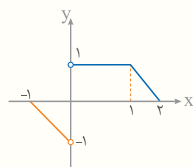
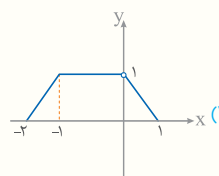
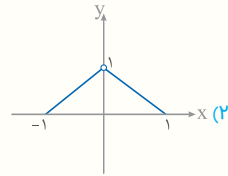
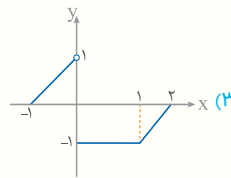
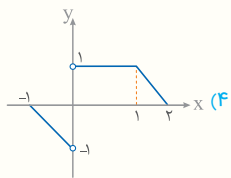
فرض کنید A مجموعه‌ای با مرجع U باشد، متمم مجموعه A برابر با اعضای U است که متعلق به مجموعه A نباشد. متمم A را با A' نشان می‌دهند.



فصل اول | مجموعه، الگو و دنباله | تم تک مجموعه



Test نمودار تابع $y = f(x)$ به صورت مقابل است. نمودار تابع $y = \frac{|x|}{x} f(x)$ کدام است؟



4 تابع $y = \frac{|x|}{x} f(x)$ در $x > 0$ برابر $y = f(x)$ و در $x < 0$ برابر $y = -f(x)$ است، بنابراین نمودار آن به صورت مقابل است:

Functions & Their Graphs

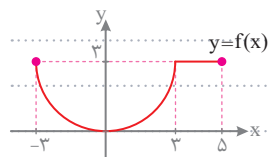
تبدیل نمودارهای $f(x)$ و $f(ax+b)$ به یکدیگر

تابع

برای رسم نمودار تابع $y = f(ax+b)$ با کمک نمودار تابع $y = f(x)$ ، به ترتیب زیر عمل می‌کنیم:

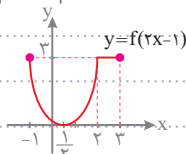
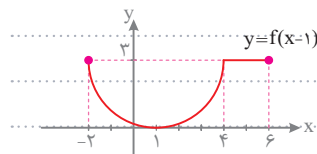
1 با توجه به علامت b ، نمودار $y = f(x)$ را به اندازه b واحد در راستای افقی جابه‌جا می‌کنیم.

2 طول تمام نقاط نمودار را بر a تقسیم می‌کنیم.



نمودار تابع $y = f(x)$ به صورت مقابل است. نمودار تابع $y = f(2x-1)$ را رسم کنید.

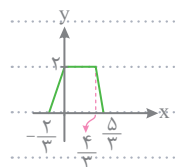
ابتدا نمودار تابع f را یک واحد به سمت راست منتقل می‌کنیم. سپس طول تمام نقاط را بر 2 تقسیم می‌کنیم:



برای رسم نمودار تابع $y = f(ax+b)$ با کمک نمودار $y = f(x)$ به ترتیب زیر عمل می‌کنیم:

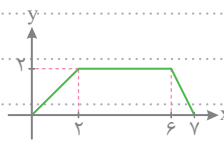
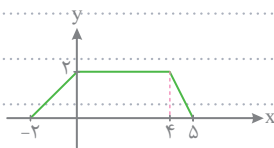
1 طول تمام نقاط نمودار را در a ضرب می‌کنیم تا به نمودار تابع $y = f(x+b)$ برسیم.

2 اگر $b > 0$ باشد، نمودار را به اندازه b واحد به سمت راست و اگر $b < 0$ باشد، نمودار را به اندازه b واحد به سمت چپ منتقل می‌کنیم.

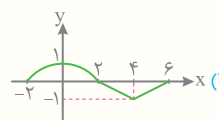
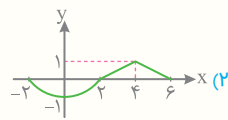
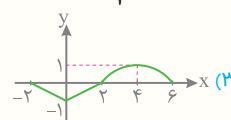
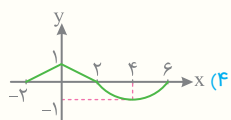
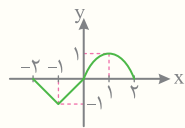


نمودار تابع $y = f(x)$ به صورت مقابل است. نمودار تابع $y = f(3x+2)$ را رسم کنید.

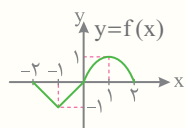
ابتدا طول تمام نقاط را در 3 ضرب می‌کنیم و سپس نمودار حاصل را 2 واحد به سمت راست منتقل می‌کنیم:



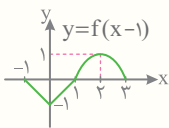
Test نمودار تابع $y = f(x)$ به صورت مقابل است. نمودار تابع $y = -f(\frac{1}{3}x-1)$ کدام است؟



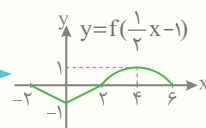
4 تغییرات را مرحله به مرحله اعمال می‌کنیم:



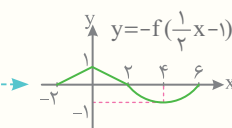
1 واحد به راست
 $x \rightarrow x-1$



انبساط با ضریب 3
در راستای افقی



قرینه نسبت به
محور xها



نصیح: • تابع انتقال و تبدیل نمودار درستی با تابع صورت

خرید کتاب: در Gajmarket.com

هر تابع به صورت $f(x) = a_n x^n + a_{n-1} x^{n-1} + \dots + a_1 x + a_0$ که در آن n عددی صحیح و نامنفی و $a_n \neq 0$ و همه ضرایب عدد حقیقی هستند را یک تابع چند جمله‌ای از درجه n می‌نامند.

چند ویژگی

1) برای تابع $f(x) = 0$ درجه تعریف نمی‌شود.

2) درجه تابع ثابت $f(x) = c$ برابر صفر است.

3) درجه تابع خطی $f(x) = mx + b$ برابر ۱ است.

4) درجه تابع سهمی $f(x) = ax^2 + bx + c$ برابر ۲ است.

دامنه توابع چند جمله‌ای برابر مجموعه اعداد حقیقی یعنی \mathbb{R} است.

Test کدام یک از توابع زیر یک تابع چند جمله‌ای از درجه ۴ است؟

$$y = x^4 + \sqrt{2}x + 1 \quad (۴)$$

$$y = x^4 + \sqrt{2}x + 1 \quad (۳)$$

$$y = x^4 + 2x^5 + 3 \quad (۲)$$

$$y = \sqrt{2}x + 1 \quad (۱)$$

3 به بررسی گزینه‌ها می‌پردازیم:

1) درجه این تابع برابر ۱ است.

2) بزرگ‌ترین درجه این تابع برابر ۵ است، پس این تابع از درجه ۵ است.

3) بزرگ‌ترین درجه این تابع برابر ۴ است، پس این تابع از درجه ۴ است.

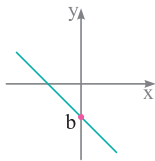
4) در این تابع توان x در عبارت $\sqrt{2}x$ عددی صحیح نیست؛ پس این تابع چند جمله‌ای نیست.

به هر تابع به صورت $f(x) = ax + b$ تابع خطی می‌گویند. می‌دانیم در این تابع a برابر شیب خط و b نشان دهنده عرض از مبدأ است.

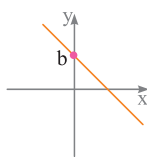
نمودار توابع خطی $y = ax + b$ با توجه به علامت a و b در شکل‌های زیر نشان داده شده‌اند:

نمودار تابع $y = ax + b$ در حالت‌های مختلف

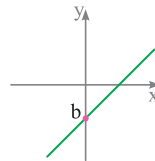
$$a < 0, b < 0$$



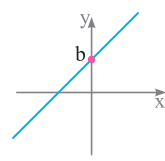
$$a < 0, b > 0$$



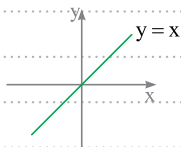
$$a > 0, b < 0$$



$$a > 0, b > 0$$

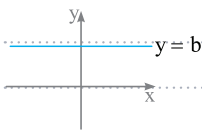


اگر $a = 1$ و $b = 0$ باشد آنگاه تابع خطی $y = ax + b$ به تابع $y = x$ تبدیل می‌شود. به این تابع، تابع همانی می‌گویند.



توجه کنید خط $y = x$ نیمساز ناحیه اول و سوم دستگاه مختصات است.

اگر $a = 0$ باشد آنگاه تابع خطی $y = ax + b$ به تابع $y = b$ تبدیل می‌شود. به این تابع، تابع ثابت می‌گویند.



اگر f تابعی همانی و g تابعی ثابت باشد و بدانیم $f(3) + g(3) = 5$ است، حاصل $f(4) \times g(5)$ را به دست آورید.

چون f تابعی همانی است، پس $f(3) = 3$ است، بنابراین با توجه به صورت سؤال داریم: $f(3) + g(3) = 5 \Rightarrow 3 + g(3) = 5 \Rightarrow g(3) = 2$

حال چون تابع g ثابت است، پس به ازای تمام مقادیر برابر ۲ است. بنابراین: $f(4) \times g(5) = 4 \times 2 = 8$

پیدا کردن $f(a)$ ب داشتن fog و g	<p>• اگر $g(x) = \frac{x}{x+1}$ و $(fog)(x) = 1-x$ باشد، مقدار $f(\frac{3}{4})$ را به دست آورید.</p>
1 ضابطه تابع درونی یعنی $g(x)$ را برابر a قرار می دهیم و با حل این معادله مقدار x را به دست می آوریم.	$g(x) = \frac{3}{4} \Rightarrow \frac{x}{x+1} = \frac{3}{4} \Rightarrow 4x = 3x + 3 \Rightarrow x = 3$
2 مقدار x را در ضابطه تابع مرکب fog جایگذاری می کنیم تا $f(a)$ به دست آید.	$f(g(3)) = 1 - 3 = -2 \xrightarrow{g(3) = \frac{3}{4}} f(\frac{3}{4}) = -2$

Test اگر $g(x) = 2x + 1$ و $(fog)(x) = 8x^2 + 6x + 5$ باشند، تابع $f(x)$ کدام است؟ (خارج - ۹۵)

1) $2x^2 + 3x + 1$ 2) $2x^2 - 2x + 3$ 3) $2x^2 - x + 4$ 4) $2x^2 + x + 3$

3 با در نظر گرفتن $g(x) = t$ داریم:

$$2x + 1 = t \Rightarrow x = \frac{t-1}{2} \Rightarrow f(g(x)) = f(2x+1) = 8x^2 + 6x + 5 \Rightarrow f(t) = 8\left(\frac{t-1}{2}\right)^2 + 6\left(\frac{t-1}{2}\right) + 5 = 8\left(\frac{t^2 - 2t + 1}{4}\right) + 3(t-1) + 5$$

با ساده کردن عبارت به دست آمده $f(t) = 2t^2 - t + 4$ خواهد شد که با جایگذاری x به جای t ، ضابطه تابع f به صورت $f(x) = 2x^2 - x + 4$ خواهد بود.

در تابع مرکب $x = 0$ را جایگذاری می کنیم:

تنها گزینه ای که به ازای $x = 1$ برابر ۵ می شود گزینه ۳ است.

تابع پیدا کردن ضابطه تابع (▲) با معلوم بودن ضابطه (●) f

در بعضی از سوالات، ضابطه تابع (●) را داریم و از ما ضابطه تابع (▲) را می خواهند. [عبارت های بردسب یک متغیر مثلا x هستند] برای حل این سوالات دو راه حل کلی وجود دارد:

- روش اول:** با تغییر متغیر مناسب ابتدا ضابطه تابع $f(x)$ را به دست می آوریم و سپس در این تابع به جای x عبارت (▲) را قرار می دهیم.
 - روش دوم:** ابتدا بررسی می کنیم چه تغییری باید روی عبارت (●) انجام دهیم تا به عبارت (▲) تبدیل شود سپس همین تغییر را روی ضابطه تابع (●) نیز اعمال می کنیم.
- فرض کنید $f(x-2) = x^2 + 5x + 1$ و می خواهیم $f(3-x)$ را پیدا کنیم. برای این کار می توانیم به دو روش بالا به صورت زیر عمل کنیم:

روش اول:

$$x - 2 = t \Rightarrow x = t + 2 \Rightarrow f(t) = (t+2)^2 + 5(t+2) + 1 = t^2 + 4t + 4 + 5t + 10 + 1 = t^2 + 9t + 15$$

$$\Rightarrow f(x) = x^2 + 9x + 15 \Rightarrow f(3-x) = (3-x)^2 + 9(3-x) + 15 = 9 - 6x + x^2 + 27 - 9x + 15$$

$$\Rightarrow f(3-x) = x^2 - 15x + 51$$

روش دوم: ابتدا بررسی می کنیم که چه تغییری روی عبارت $x-2$ اعمال کنیم تا به عبارت $3-x$ برسیم. به عبارت دیگر باید ببینیم که به جای x چه عبارتی قرار دهیم تا تغییر مطلوب مسئله رخ دهد. فرض می کنیم که باید به جای x عبارت (■) را در $x-2$ بگذاریم تا عبارت $3-x$ حاصل شود:

$$\blacksquare - 2 = 3 - x \Rightarrow \blacksquare = 5 - x$$

پس کافایت که در ضابطه تابع $f(x-2) = x^2 + 5x + 1$ به جای همه x ها عبارت $5-x$ را قرار دهیم. در این صورت خواهیم داشت:

$$f(x-2) = x^2 + 5x + 1 \xrightarrow{x \rightarrow 5-x} f(5-x-2) = (5-x)^2 + 5(5-x) + 1$$

$$\Rightarrow f(3-x) = 25 - 10x + x^2 + 25 - 5x + 1 = x^2 - 15x + 51 \Rightarrow f(3-x) = x^2 - 15x + 51$$

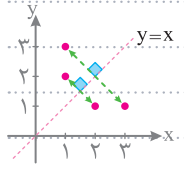
اگر ضابطه $f(0)$ را داشته باشیم، برای مشخص کردن ضابطه $f(0)$ از طریق عددگذاری، بهترین عدد از حل معادله $0 = 0$ به دست می آید.

با جابه جا کردن مؤلفه های زوج مرتب (a, b) ، زوج مرتب (b, a) به دست می آید. حال اگر مؤلفه های همه زوج مرتب های تابع f را جابه جا کنیم، رابطه جدیدی به دست می آید که آن را **وارون تابع f** می گوئیم و با f^{-1} نشان می دهیم.

• وارون تابع $f = \{(6, 3), (2, 5), (3, 4)\}$ به صورت $f^{-1} = \{(3, 6), (5, 2), (4, 3)\}$ است.

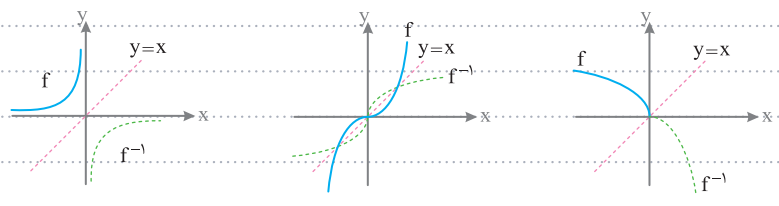
اگر تابع f و تابع f^{-1} را در یک دستگاه مختصات رسم کنیم، ملاحظه می شود که نمودار f و f^{-1} نسبت به خط $y=x$ قرینه یکدیگرند.

• تابع $f = \{(2, 1), (3, 1)\}$ را در نظر بگیرید، وارون این تابع به صورت $f^{-1} = \{(1, 2), (1, 3)\}$ است. حال f و f^{-1} را در یک دستگاه مختصات رسم می کنیم، همان طور که می بینید هر نقطه از تابع f بعد از قرینه شدن نسبت به $y=x$ به نقطه ای از f^{-1} تبدیل می شود.



برای رسم نمودار f^{-1} از روی نمودار f ، باید نمودار f را نسبت به خط $y=x$ قرینه کنیم.

• در هر یک از توابع زیر از روی نمودار f ، نمودار f^{-1} رسم شده است:



وارون یک تابع ممکن است تابع نباشد.

• می دانیم $f(x) = x^2$ یک تابع است، اما وارون آن تابع نیست:

تابع نیست.

وارون تابع f در صورتی یک تابع است که f تابعی یک به یک باشد. در این حالت می گوئیم تابع f **وارون پذیر** است.

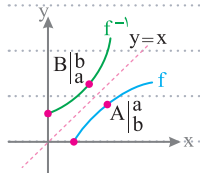
Test کدام یک از توابع زیر وارون پذیر است؟

- 1) $f = \{(1, 2), (2, 3), (3, 2)\}$
- 2) $g = \{(2, 4), (3, 1), (4, 2)\}$
- 3) $h = \{(1, 3), (2, 2), (3, 3)\}$
- 4) $k = \{(2, 2), (3, 1), (1, 2)\}$

2 در بین گزینه ها تابع g یک به یک است. چون تمام زوج مرتبها مؤلفه های اول و دوم متفاوت دارند. بنابراین تنها تابع g وارون پذیر است.

با توجه به این که نمودار توابع f و f^{-1} نسبت به خط $y=x$ ، یعنی نیمساز ربع اول و سوم قرینه یکدیگرند (متقارن اند)، خواهیم داشت:

1) اگر نقطه $A(a, b)$ روی نمودار تابع f باشد، آنگاه نقطه $B(b, a)$ روی نمودار تابع f^{-1} است و برعکس، به عبارت دیگر:



$$f(a) = b \Leftrightarrow f^{-1}(b) = a$$

2) همواره دامنه تابع f با بُرد تابع f^{-1} برابر است. همچنین بُرد تابع f نیز با دامنه تابع f^{-1} برابر است.

$$R_f = D_{f^{-1}} \quad D_f = R_{f^{-1}}$$

Test در کدام گزینه a بزرگتر است؟

$$\log_{25} a = -\frac{1}{4} \quad (4)$$

$$\log_a 2 = \frac{1}{3} \quad (3)$$

$$\log_{-2} a = 4 \quad (2)$$

$$\log_a \frac{1}{3} = -1 \quad (1)$$

$$(1) \log_a \frac{1}{3} = -1 \Rightarrow a^{-1} = \frac{1}{3} \Rightarrow a = 3$$

3 همه گزینه‌ها را بررسی می‌کنیم:

توجه کنید در گزینه (2) چون مبنا برابر 2- و منفی است، پس $\log_{-2} a$ تعریف نشده است.

$$(3) \log_a 2 = \frac{1}{3} \Rightarrow a^{\frac{1}{3}} = 2 \xrightarrow{\text{به توان 3}} a = 2^3 = 8$$

$$(4) \log_{25} a = -\frac{1}{4} \Rightarrow a = (25)^{-\frac{1}{4}} \Rightarrow a = \frac{1}{\sqrt[4]{25}} = \frac{1}{5}$$

Exponential Functions Logarithms

قانون [1]: انتقال توان

تابع نمایی و لگاریتمی

اگر عبارت جلوی لگاریتم و مبنای لگاریتم عبارتی تووان دار باشند، با کمک قاعده انتقال توان می‌توانیم آن‌ها را به پشت لگاریتم منتقل کنیم:

$$\log_{b^n} a^m = \frac{m}{n} \log_b a$$

(1) اگر عبارت جلوی لگاریتم [یا مبنای لگاریتم] از ضرب دو یا چند عدد تشکیل شده باشد به طوری که فقط بعضی از آن‌ها تووان دار باشند، نمی‌توانیم توان را به پشت لگاریتم منتقل کنیم.

$$\bullet \log(3 \times 5^2) \neq 2 \log(3 \times 5) \quad \bullet \log(3 \times 5)^2 = 2 \log(3 \times 5)$$

(2) توان عبارت جلوی لگاریتم را نمی‌توان به عنوان توان برای خود لگاریتم در نظر گرفت.

$$\bullet \frac{1}{4} \log 3 = \log 3^{\frac{1}{4}} = \log \sqrt[4]{3} \quad \bullet (\log 3)^{\frac{1}{2}} = \sqrt{\log 3} \quad \bullet (\log 3)^2 \neq \log 3^2$$

با توجه به تعریف لگاریتم، می‌توانیم دو قانون بدیهی زیر را نتیجه بگیریم:

دو قانون بدیهی

(1) لگاریتم عدد یک در هر مبنایی برابر با صفر است. $\log_a 1 = 0$ (2) لگاریتم هر عددی در پایه خودش برابر با یک است. $\log_a a = 1$

لگاریتم در مبنای 10 را **لگاریتم اعشاری** می‌نامند و معمولاً در این حالت مبنای لگاریتم نوشته نمی‌شود، یعنی: $\log_{10} a = \log a$

$$\bullet \log_{10} 10 = \log_{10} 10 = 1 \quad \bullet \log_{10} 1000 = \log_{10} 10^3 = 3$$

Test حاصل $\log_3 9\sqrt{27}$ برابر کدام است؟

$$\frac{7}{3} \quad (4)$$

$$\frac{8}{3} \quad (3)$$

$$\frac{7}{2} \quad (2)$$

$$3 \quad (1)$$

2 عبارت جلوی لگاریتم را به صورت تووان دار می‌نویسیم و از قاعده انتقال توان استفاده می‌کنیم:

$$\log_3 9\sqrt{27} = \log_3 3^2 \times \sqrt{3^3} = \log_3 3^2 \times 3^{\frac{3}{2}} = \log_3 3^{\frac{7}{2}} = \frac{7}{2} \log_3 3 = \frac{7}{2} \times 1 = \frac{7}{2}$$

Exponential Functions Logarithms

قانون [2]: جمع و تفریق لگاریتم‌ها

تابع نمایی و لگاریتمی

برای به دست آوردن مجموع یا تفاضل دو لگاریتم با مبنای یکسان، از قوانین زیر استفاده می‌کنیم:

$$\log_b a + \log_b c = \log_b ac$$

$$\log_b a - \log_b c = \log_b \frac{a}{c}$$

قانون جمع و تفریق لگاریتم‌ها برای بیش از دو لگاریتم نیز قابل تعمیم است.

ریزه کاری‌های در قاعده‌ی جمع و تفریق لگاریتم‌ها

❖ $\log_{25} 3600 - \log_5 12 = \log_5 60^2 - \log_5 12 = \frac{2}{5} \log_5 60 - \log_5 12 = \log_5 \frac{60}{12} = \log_5 5 = 1$

1 ابتدا باید مبنای لگاریتم‌ها را یکسان کنیم.

❖ $2 \log_6 3 + \log_6 4 = \log_6 3^2 + \log_6 4 = \log_6 9 + \log_6 4 = \log_6 36 = 2$

2 اگر لگاریتم‌ها دارای ضرب باشند، ابتدا با کمک قانون انتقال توان، ضرب را از بین می‌بریم.

می‌توانیم $\log 2$ و $\log 5$ را به صورت زیر به یکدیگر تبدیل کنیم:

$$\log 10 = 1 \Rightarrow \log(2 \times 5) = 1 \Rightarrow \log 2 + \log 5 = 1 \Rightarrow \begin{cases} \log 2 = 1 - \log 5 \\ \log 5 = 1 - \log 2 \end{cases}$$

اگر بخواهیم مجموع یا تفاضل یک عدد و یک عبارت لگاریتمی را پیدا کنیم، می‌توانیم عدد را به شکل لگاریتمی با مبنای لگاریتم داده شده بنویسیم و سپس از قانون جمع و تفریق دو لگاریتم استفاده کنیم.

❖ $\frac{1}{4} + \log_8 3 = \log_8 \sqrt{5} + \log_8 3 = \log_8 3\sqrt{5}$ ❖ $2 + \log_3 4 = \log_3 9 + \log_3 4 = \log_3 (9 \times 4) = \log_3 36$

Test اگر $\log 2 = a$ و $\log 3 = b$ باشد، آنگاه $\log \sqrt{12}$ کدام است؟

$\frac{a}{2} + b$ (4)
 $2a + b$ (3)
 $a + \frac{b}{2}$ (2)
 $a + 2b$ (1)

$\log \sqrt{12} = \log 12^{\frac{1}{2}} = \frac{1}{2} \log 12 = \frac{1}{2} (\log 4 + \log 3) = \frac{1}{2} (2\log 2 + \log 3) = \frac{1}{2} (2a + b) = a + \frac{b}{2}$

2

Exponential Functions
Logarithms

قانون [3]: تغییر مبنا

تابع نمایی و لگاریتمی

هر لگاریتم را می‌توان با کمک قانون تغییر مبنا به صورت تقسیم دو لگاریتم نوشت؛ به عبارتی اگر c یک عدد حقیقی دلخواه ($c > 0, c \neq 1$) باشد، آنگاه می‌توان از c به عنوان پایه لگاریتم استفاده کرد؛ بنابراین:

$$\log_b a = \frac{\log_c a}{\log_c b}$$

❖ $\log_3 2 = \frac{\log 2}{\log 3}$ ❖ $\frac{\log_3 9}{\log_3 6} = \log_6 9$

❖ اگر $\log_3 2 = a$ باشد، مقدار $\log_6 2$ بر حسب a به دست آورید.

❑ $\log_6 2 = \frac{\log_3 2}{\log_3 6} = \frac{\log_3 2}{\log_3 (3 \times 2)} = \frac{\log_3 2}{\log_3 3 + \log_3 2} = \frac{\log_3 2}{1 + \log_3 2} = \frac{a}{1+a}$

نتایج و کاربردهای قانون تغییر مبنا

$\log_b a = \frac{1}{\log_a b}$

1 به طور کلی می‌توان گفت $\log_a b$ و $\log_b a$ معکوس یکدیگر هستند:

2 اگر دو (یا چند) لگاریتم در یکدیگر ضرب شوند، می‌توانیم عبارت جلوی لگاریتم‌ها را با یکدیگر یا مبنای آنها را با یکدیگر جابه‌جا کنیم:

$\log_{b_1} a_1 \times \log_{b_2} a_2 = \log_{b_1} a_2 \times \log_{b_2} a_1$

❖ حاصل $\log_3 4 \times \log_{16} 7$ را به دست آورید.

❑ $\log_{\sqrt{2}} 4 \times \log_{\sqrt{2}} 7 = \log_{\sqrt{2}} 7 \times \log_{\sqrt{2}} 4 = 1 \times \log_{\sqrt{2}} 4 = \frac{2}{\frac{1}{2}} = \frac{2}{\frac{1}{2}} = 4$

Test اگر $\log_3 2 = \frac{5}{8}$ باشد، آنگاه $\log_{18} 8$ کدام است؟

(خارج - ۹۹)

$\frac{3}{4}$ (۴)

$\frac{8}{11}$ (۳)

$\frac{5}{7}$ (۲)

$\frac{15}{22}$ (۱)

2 از قاعده تغییر مبنا استفاده می‌کنیم:

$$\log_{18} 8 = \frac{\log_3 8}{\log_3 18} = \frac{\log_3 2^3}{\log_3 (3^2 \times 2)} = \frac{3 \log_3 2}{2 \log_3 3 + \log_3 2} = \frac{3 \times \frac{5}{8}}{2 + \frac{5}{8}} = \frac{\frac{15}{8}}{\frac{21}{8}} = \frac{15}{21} = \frac{5}{7}$$

Exponential Functions
Logarithms

قانون [۴]: (اعداد با توان لگاریتمی)

تابع نمایی و لگاریتمی

اگر یک عبارت لگاریتمی به عنوان توان یک عدد قرار بگیرد، می‌توانیم جای عدد و عبارت جلوی لگاریتم را با یکدیگر عوض کنیم:

$\log_5 3^2 = 2 \log_5 3$

$\log_3 6^2 = 2 \log_3 6$

$a^{\log_c b} = b^{\log_c a}$

با توجه به قانون بالا، می‌توان نتیجه گرفت:

$a^{\log_a x} = x$

$\log_5 5 = 1$

$3^2 \times 3^{\log_3 5} = 9 \times 5 = 9 \times 5 = 45$

در سوالاتی که خود لگاریتم‌ها دارای توان هستند، باید با کمک اتحادها حاصل عبارت را به دست آوریم. در این سوالات معمولاً اتحادهای مزدوج و مربع دو جمله‌ای استفاده می‌کنیم.

$(\log_5 3)^2 + (\log_5 5)^2 + 2 \log_5 3 \cdot \log_5 5 = (\log_5 3 + \log_5 5)^2 = (\log_5 15)^2 = 1$

Test حاصل عبارت $\frac{1}{\log_5 3} + \frac{1}{\log_5 11}$ کدام است؟

۲۵ (۴)

۱۴ (۳)

۱۰ (۲)

۷ (۱)

2 می‌دانیم $\frac{1}{\log_a b} = \log_b a$ است، پس:

$$\frac{1}{\log_5 3} + \frac{1}{\log_5 11} = \log_3 5 + \log_{11} 5 = \log_3 2 + \log_{11} 11 = 5 + 5 = 10$$

Exponential Functions
Logarithms

لگاریتم‌های شامل رادیکال

تابع نمایی و لگاریتمی

اگر عبارت جلوی لگاریتم (یا مبنا) شامل رادیکال باشد، سه حالت عمده برای حل مسئله وجود دارد:

1) اگر عبارت جلوی لگاریتم یا مبنا، فقط از یک رادیکال تشکیل شده باشد، رادیکال را به صورت توان دار می‌نویسیم و با کمک قوانین لگاریتم، عبارت را ساده می‌کنیم. [که در بخش‌های قبلی بررسی شد].

$\log_{\frac{1}{4}} \sqrt[3]{2} = \log_{\frac{1}{4}} 2^{\frac{1}{3}} = \frac{1}{3} \log_{\frac{1}{4}} 2 = \frac{1}{6}$

2) اگر مجموع یا تفاضل دو لگاریتم خواسته شود به طوری که عبارت جلوی لگاریتم‌ها از مجموع (یا تفاضل) دو رادیکال یا یک عدد و یک رادیکال تشکیل شده باشد، از دو اتحاد مربع دو جمله‌ای و مزدوج استفاده می‌کنیم.

$2 \log(\sqrt{5} - \sqrt{2}) + \log(\gamma + 2\sqrt{15}) = \log(\sqrt{5} - \sqrt{2})^2 + \log(\gamma + 2\sqrt{15})$

$= \log(\gamma - 2\sqrt{15}) + \log(\gamma + 2\sqrt{15}) = \log(\gamma - 2\sqrt{15})(\gamma + 2\sqrt{15}) = \log 9 = 2 \log 3$

3) در بعضی از سوالاتی که عبارت جلوی لگاریتم و مبنا، از مجموع یا تفاضل دو رادیکال یا یک عدد و یک رادیکال تشکیل شده است، می‌توانیم عبارت جلوی لگاریتم یا مبنا را گویا کنیم.

$\log_{(\sqrt{3}+1)}(\sqrt{2}-1) = \log_{(\sqrt{3}+1)} \frac{1}{(\sqrt{2}+1)} = \log_{(\sqrt{3}+1)}(\sqrt{2}+1)^{-1} = -\log_{(\sqrt{3}+1)}(\sqrt{2}+1) = -1$

Test اگر $\log 5 = k$ باشد، حاصل $\log(3 - \sqrt{5}) + \log(3 + \sqrt{5})$ کدام است؟

- ۱) $2-2k$ ۲) $1-k$ ۳) $1+k$ ۴) $2+2k$

1

$$\log(3 - \sqrt{5}) + \log(3 + \sqrt{5}) = \log(9 - 5) = \log 4 = \log 2^2 = 2 \log 2 = 2(1 - \log 5) = 2(1 - k) = 2 - 2k$$

Exponential Functions
Logarithms

تابع نمایی و لگاریتمی یافتن حدود لگاریتم

اگر بخواهیم مقدار تقریبی $\log_b a$ را محاسبه کنیم، یعنی بررسی کنیم که $\log_b a$ بین کدام دو عدد صحیح متوالی قرار دارد، باید مشخص کنیم عدد a بین کدام دو توان متوالی از b قرار دارد.

برای این که ببینیم $\log_{10} 10$ ، بین کدام دو عدد صحیح متوالی قرار دارد و به کدام یک نزدیک تر است، به صورت زیر عمل می‌کنیم:

$10^0 = 1 < 10 < 10^1 = 10$...
 $10^0 = 1 < 10^1 = 10 < 10^2 = 100$...
 چون $10^0 = 1 < 10 < 10^1 = 10$ ، پس $\log_{10} 10 = 1$ ، هم به 10^0 نزدیک تر است تا به 10^1 .

Test حاصل عبارت $[\log_{5/3} 3/5]$ کدام است؟

- ۱) 1 ۲) 2 ۳) -1 ۴) -2

4

$$\log_{5/3} 3/5 = \log_{\frac{1}{3/5}} 3/5 = -\log_{3/5} 3/5$$

می‌دانیم: از آنجایی که $2^1 < 3/5 < 2^2$ ، داریم:

$$\log_{3/5} 2^1 < \log_{3/5} 3/5 < \log_{3/5} 2^2 \Rightarrow 1 < \log_{3/5} 3/5 < 2$$

پس $-\log_{3/5} 3/5$ بین دو عدد -2 و -1 قرار گرفته است. بنابراین:

$$[\log_{5/3} 3/5] = [-\log_{3/5} 3/5] = -2$$

Exponential Functions
Logarithms

تابع نمایی و لگاریتمی دامنه توابع لگاریتمی

برای به دست آوردن دامنه توابع لگاریتمی باید سه شرط زیر را بررسی کنیم و سپس از جواب‌ها اشتراک بگیریم:

$\log \begin{matrix} \bullet \\ \circ \end{matrix} \Rightarrow \begin{cases} > 0 \\ > 0 \\ \neq 1 \end{cases}$ دامنه به دست می‌آید.

• عبارت جلوی لگاریتم مثبت باشد.

• مبنای لگاریتم مثبت باشد.

• مبنای لگاریتم یک نباشد.

• دامنه تابع $f(x) = \log_{(x-3)}(6-x)$ را به دست آورید.

$\begin{cases} 6-x > 0 \Rightarrow x < 6 \\ x-3 > 0 \Rightarrow x > 3 \\ x-3 \neq 1 \Rightarrow x \neq 4 \end{cases} \Rightarrow D_f = (3, 6) - \{4\} = (3, 4) \cup (4, 6)$

در هنگام تعیین دامنه، نباید تابع را ساده کنیم.

• دامنه تابع $y = \log x^2$ به صورت $\mathbb{R} - \{0\}$ است، در حالی که دامنه تابع $g(x) = 2 \log x$ به صورت $(0, +\infty)$ است.

Test دامنه تابع $f(x) = \log_x(4-x^2)$ شامل چند عدد صحیح است؟

- ۱) 1 ۲) 2 ۳) 4 ۴) صفر

4

① $4 - x^2 > 0 \Rightarrow x^2 < 4 \Rightarrow |x| < 2 \Rightarrow -2 < x < 2$
 $\rightarrow D_f = (0, 1) \cup (1, 2)$

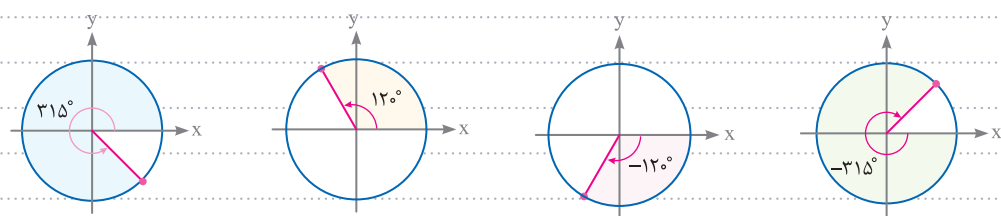
② $x > 0, x \neq 1$

بنابراین در دامنه تابع f عدد صحیحی وجود ندارد.

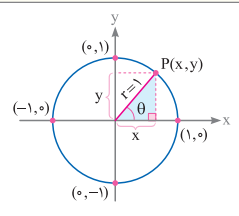
فصل ششم | تابع نمایی و لگاریتمی | تابع لگاریتم روی همی لگاریتم

خرید آنلاین در Gajmarket.com

موقعیت زاویه‌های $12^\circ, -12^\circ, 315^\circ, -315^\circ$ را روی دایره مثلثاتی مشخص کنید.



ویژگی نقطه‌های روی دایره مثلثاتی

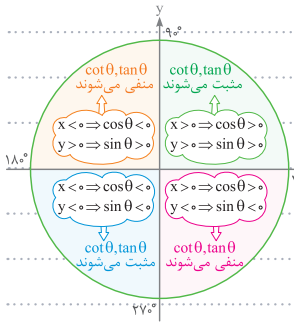


- با توجه به شکل مقابل طول هر نقطه روی دایره مثلثاتی، برابر $\cos \theta$ و عرض آن برابر $\sin \theta$ است: $P(\cos \theta, \sin \theta)$
- با توجه به رابطه فیثاغورس در مثلث رنگ شده برای هر نقطه $P(x, y)$ خواهیم داشت: $y^2 + x^2 = 1 \Leftrightarrow \sin^2 \theta + \cos^2 \theta = 1$

برای این که مشخص کنیم نقطه $P(x, y)$ روی دایره مثلثاتی قرار دارد یا خیر، باید درستی رابطه $x^2 + y^2 = 1$ را بررسی کنیم.

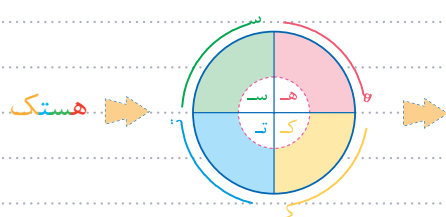
$(0/3)^2 + (-0/4)^2 \neq 1$

نقطه $P(0/3, -0/4)$ روی دایره مثلثاتی قرار ندارد، زیرا:



علامت نسبت‌های مثلثاتی در ناحیه‌های مختلف را می‌توان مطابق شکل زیر مرتب و دسته‌بندی کرد:

به اختصار می‌توان علامت نسبت‌های مثبت هر ربع مثلثاتی را این گونه به خاطر سپرد [دقت کنید که هر یا تانژانت مثبت است، کتانژانت هم مثبت است]:



- همه در ربع اول مثبت
- سینوس در ربع دوم مثبت
- تانژانت (و کتانژانت) در ربع سوم مثبت
- کسینوس در ربع چهارم مثبت

با توجه به دایره مثلثاتی، مقادیر سینوس و کسینوس هر زاویه دلخواه، همواره در بازه $[-1, 1]$ قرار دارد.

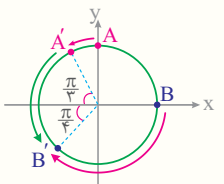
محدوده عبارت $A = 2 + 3 \sin x$ را تعیین کنید.

$-1 \leq \sin x \leq 1 \Rightarrow -3 \leq 3 \sin x \leq 3 \Rightarrow -1 \leq 2 + 3 \sin x \leq 5 \Rightarrow -1 \leq A \leq 5$

می‌دانیم $\sin x$ در بازه $[-1, 1]$ قرار دارد، پس:

Test نقطه $A(0, 1)$ را روی دایره مثلثاتی به اندازه $\frac{\pi}{6}$ در جهت مثبت مثلثاتی حرکت می‌دهیم تا به نقطه A' برسد. سپس نقطه $B(1, 0)$ را نیز روی همین دایره مثلثاتی به اندازه $\frac{3\pi}{4}$ در خلاف جهت مثلثاتی حرکت می‌دهیم تا به نقطه B' برسد برای رسیدن از نقطه A' به نقطه B' باید روی دایره مثلثاتی چقدر حرکت کنیم؟

- (۱) در خلاف جهت مثلثاتی $\frac{5\pi}{6}$ در جهت مثبت مثلثاتی
- (۲) در جهت مثبت مثلثاتی $\frac{5\pi}{6}$ در خلاف جهت مثلثاتی
- (۳) در خلاف جهت مثلثاتی $\frac{7\pi}{12}$ در جهت مثبت مثلثاتی
- (۴) در جهت مثبت مثلثاتی $\frac{7\pi}{12}$



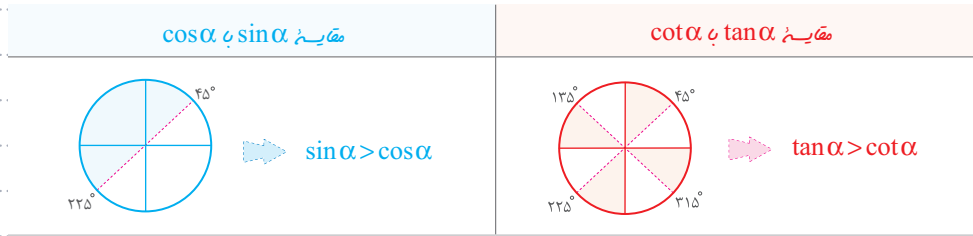
4 مطابق دایره مثلثاتی مقابل برای رسیدن از نقطه A' به نقطه B' باید به اندازه $\frac{\pi}{3} + \frac{\pi}{4} = \frac{7\pi}{12}$ در جهت

مثبت مثلثاتی حرکت می‌کنیم.

نقص هفت | اشکات | شمرات | شمرات ششم | ابریه شمرات

خرید آنلاین در Gaymarket.com

برای مقایسه $\sin \alpha$ با $\cos \alpha$ و $\tan \alpha$ با $\cot \alpha$ از دایره های مثلثاتی زیر کمک می گیریم. اگر انتهای کمان α در ناحیه های رنگ شده باشد، آنگاه:



چون زاویه 15° در ناحیه های رنگی دایره مثلثاتی قرار دارد، پس $\sin 15^\circ > \cos 15^\circ$ ، $\tan 15^\circ > \cot 15^\circ$ است.

اگر بخواهیم $\sin \alpha$ را با $\tan \alpha$ یا $\cot \alpha$ مقایسه کنیم یا بخواهیم $\cos \alpha$ را با $\tan \alpha$ یا $\cot \alpha$ مقایسه کنیم، می توانیم به جای $\tan \alpha$ بنویسیم $\frac{\sin \alpha}{\cos \alpha}$ و به جای $\cot \alpha$ بنویسیم $\frac{\cos \alpha}{\sin \alpha}$.

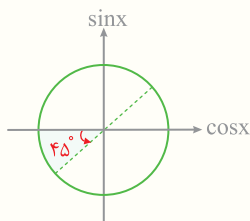
درستی نامساوی $\sin 4^\circ < \tan 4^\circ$ را بررسی کنید.

به جای $\tan 4^\circ$ می نویسیم $\frac{\sin 4^\circ}{\cos 4^\circ}$ و داریم:

$$\sin 4^\circ < \tan 4^\circ \Rightarrow \sin 4^\circ < \frac{\sin 4^\circ}{\cos 4^\circ} \Rightarrow \cos 4^\circ < 1$$

می دانیم سینوس و کسینوس هر زاویه دلخواه در بازه $[-1, 1]$ قرار دارد، پس نامساوی $\cos 4^\circ < 1$ درست است، بنابراین $\sin 4^\circ < \tan 4^\circ$ نیز درست است.

Test در شکل مقابل اگر زاویه θ در ناحیه هاشور خورده باشد، کدام گزینه صحیح است؟



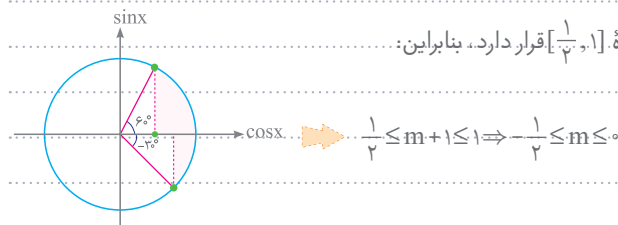
- 1) $\cot \theta < \tan \theta$
- 2) $\tan \theta \cdot \sin \theta > 0$
- 3) $\cos \theta - \sin \theta < 0$
- 4) $\sin \theta \cdot \cos \theta < 0$

3 چون $18^\circ < \theta < 225^\circ$ است، پس $\cos \theta < \sin \theta$ بوده می توان نتیجه گرفت: $\cos \theta - \sin \theta < 0$

در برخی سؤالات حدود زاویه داده می شود و از ما حدود یکی از نسبت های مثلثاتی مربوط به آن زاویه را می خواهند. در این سؤالات باید ابتدا محدوده زاویه را روی دایره مثلثاتی مشخص کنیم و سپس محدوده نسبت مثلثاتی خواسته شده را به دست آوریم.

اگر $3^\circ \leq x \leq 6^\circ$ و $\cos x = m+1$ باشد، مقادیر m را به دست آورید.

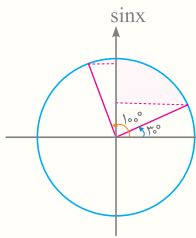
با توجه به دایره مثلثاتی مقابل $-\frac{1}{3} \leq \cos x \leq 1$ است، پس $m+1$ نیز در بازه $[-\frac{1}{3}, 1]$ قرار دارد، بنابراین:



Test اگر $15^\circ < x < 50^\circ$, $\sin 2x = \frac{m-1}{2}$ باشد، حدود m کدام است؟

- (۱) $(-\frac{1}{2}, 1]$ (۲) $(2, 3]$ (۳) $(0, 2]$ (۴) $(-1, 3]$

2 چون $15^\circ < x < 50^\circ$ است، پس $30^\circ < 2x < 100^\circ$ است. با توجه به دایره مثلثاتی مقابل $\sin 2x$ در بازه $(\frac{1}{2}, 1]$ قرار دارد، بنابراین:



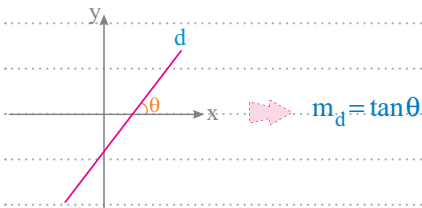
$$\frac{1}{2} < \frac{m-1}{2} \leq 1 \Rightarrow 1 < m-1 \leq 2 \Rightarrow 2 < m \leq 3$$

Trigonometric Functions

رابطه شیب خط و تانژانت

مثالت

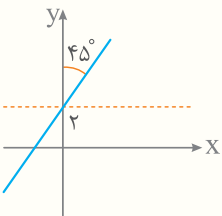
تانژانت زاویه‌ای است که خط با جهت مثبت محور x ها می سازد، برابر شیب خط است:



• نمودار خط d به معادله $3y - 2x = 6$ به صورت مقابل است. حاصل $\tan \theta + \cot \theta$ کدام است؟
 □ می دانیم که $\tan \theta$ برابر با شیب خط d است پس با به دست آوردن شیب خط d داریم:

$$3y - 2x = 6 \Rightarrow y = \frac{2}{3}x + 2 \Rightarrow m = \frac{2}{3} \Rightarrow \tan \theta = \frac{2}{3} \Rightarrow \tan \theta + \cot \theta = \tan \theta + \frac{1}{\tan \theta} = \frac{2}{3} + \frac{3}{2} = \frac{4+9}{6} = \frac{13}{6}$$

Test با توجه به شکل مقابل، معادله خط d کدام است؟



- (۱) $2y = x + 2$
 (۲) $y = -x + 2$
 (۳) $y = x + 2$
 (۴) $2y = -x + 2$

$m = \tan \theta = 1$

3 خط d با جهت مثبت محور x ها زاویه 45° می سازد پس شیب آن برابر است با:
 در ضمن عرض از مبدأ خط برابر ۲ است، پس معادله آن به صورت $y = x + 2$ است.

Lesson.2

دهم + یازدهم + دوازدهم

اتحادها و روابط مثلثاتی

درس دوم



Trigonometric Functions

اتحادهای مثلثاتی

مثالت

هر تساوی مثلثاتی که به ازای هر مقدار دلخواه α (در صورت قابل تعریف بودن) برقرار باشد، یک اتحاد مثلثاتی نام دارد.

• تساوی $\sin 2x = 2 \sin x \cos x$ یک اتحاد مثلثاتی است، چون به ازای هر زاویه دلخواه که به جای x قرار دهیم دو طرف تساوی برابر می شوند.

مجموع مربعات سینوس و کسینوس هر زاویه دلخواه برابر ۱ است:

$$\sin^2 \alpha + \cos^2 \alpha = 1$$

نصف هفتم | شش | اتحادها و روابط مثلثاتی

خرید آنلاین در Gaymarket.com

باقی مانده تقسیم چند جمله‌ای $f(x)$ بر $x-a$ برابر با $f(a)$ است.

اگر مقسوم علیه برابر $x-a$ باشد، باقی مانده باید عددی ثابت باشد. بنابراین اتحاد تقسیم به صورت مقابل است: $f(x) = (x-a)q(x) + r$.
و چون این اتحاد به ازای جمیع مقادیر x برقرار است، با قرار دادن ریشه مقسوم علیه یعنی $x=a$ در این اتحاد داریم:

$$f(a) = (a-a)q(a) + r \Rightarrow f(a) = r$$

باقی مانده تقسیم عبارت $x^4 - 3x^3 + x + 9$ بر $x-2$ برابر است با:

$$x-2=0 \Rightarrow x=2 \Rightarrow f=f(2) = 2^4 - 3 \times 2^3 + 2 + 9 = 16 - 24 + 2 + 9 = 3$$

به طور مشابه، باقی مانده تقسیم چند جمله‌ای $f(x)$ بر $ax+b$ برابر با $f(-\frac{b}{a})$ است.

باقی مانده تقسیم $f(x) = x^3 + x^2 + ax$ بر $2x-1$ چهار واحد بیشتر از باقی مانده تقسیم $f(x)$ بر $2x+3$ است. مقدار a را به دست آورید.

باقی مانده تقسیم $f(x)$ بر $2x-1$ برابر $f(\frac{1}{2})$ و باقی مانده تقسیم آن بر $2x+3$ برابر $f(\frac{-3}{2})$ است. پس داریم:

$$f(\frac{1}{2}) = 4 + f(\frac{-3}{2}) \Rightarrow \frac{1}{8} + \frac{1}{4} + \frac{a}{2} = 4 + \frac{-27}{8} + \frac{9}{4} - \frac{3a}{2} \Rightarrow 2a = \frac{1}{4} \Rightarrow a = \frac{5}{4}$$

باقی مانده تقسیم چند جمله‌ای $f(x)$ بر $x-4$ برابر 5 است. باقی مانده تقسیم $f(x)$ بر $x-2$ کدام است؟

باقی مانده تقسیم چند جمله‌ای $f(x)$ بر $x-4$ برابر $5 = f(4)$ است. بنابراین باقی مانده تقسیم $f(x)$ بر $x-2$ برابر است با: $f(2) = f(4) = 5$.

Test فرض کنید باقی مانده تقسیم چند جمله‌ای $p(x)$ بر $x-4$ و $x+2$ ، به ترتیب 3 و 1 باشند، باقی مانده تقسیم $p(x^2) + 4p(-x)$ بر

$x-2$ کدام است؟
 ۱) ۷ ۲) ۱ ۳) صفر ۴) -۱

چون باقی مانده تقسیم $p(x)$ بر $x-4$ و $x+2$ به ترتیب 3 و 1 است، پس:

$$p(4) = 3, p(-2) = 1$$

$$p(2^2) + 4p(-2) = p(4) + 4p(-2) = 3 + 4(1) = 7$$

حال باقی مانده تقسیم $p(x^2) + 4p(-x)$ بر $x-2$ برابر است با:

اگر مقسوم بر مقسوم علیه بخش پذیر باشد، بر تک تک عوامل مقسوم علیه نیز بخش پذیر است.

اگر عبارت $x^3 - 2x^2 - 3x + ax^2 + bx^2 - 2x - 3$ بخش پذیر باشد، مقادیر a و b را بیابید.

می دانیم تجزیه عبارت $x^3 - 2x^2 - 3x - 3$ به صورت $(x+1)(x-3)$ است. از طرفی چون عبارت $x^3 - 2x^2 - 3x - 3$ بخش پذیر است، پس بر هر یک از عبارت های $(x+1)$ و $(x-3)$ نیز بخش پذیر است. بنابراین داریم:

$$f(-1) = 0 \Rightarrow (-1)^3 + a(-1)^2 + b(-1)^2 - 2(-1) - 3 = 0 \Rightarrow -a + b = 0 \Rightarrow a = b$$

$$f(3) = 0 \Rightarrow (3)^3 + a(3)^2 + b(3)^2 - 2(3) - 3 = 0 \Rightarrow 27a + 9b = -72 \Rightarrow \begin{cases} a = b \\ 3a + b = -8 \end{cases} \Rightarrow a = -2, b = -2$$

به ازای هر عدد طبیعی n ، چند جمله‌ای $x^n - a^n$ بر $x-a$ بخش پذیر است:

$$x^n - a^n = (x-a)(x^{n-1} + ax^{n-2} + a^2x^{n-3} + \dots + a^{n-2}x + a^{n-1})$$

چند جمله‌ای $x^8 - 1$ بر $x-1$ بخش پذیر است.

Test اگر $\lim_{x \rightarrow 2} \frac{x - \sqrt{3x-2}}{ax+b} = \frac{1}{2}$ باشد، آنگاه b کدام است؟

۱ (۴)

۲ (۳)

-۱ (۲)

-۲ (۱)

2 صورت کسر به ازای $x=2$ برابر صفر می‌شود. اما از آن جایی که حاصل حد برابر عدد $\frac{1}{2}$ است، پس کسردارای ابهام $\frac{0}{0}$ است. بنابراین $x=2$ ریشه

1 $a(2)+b=0$

مخرج کسرنیز است:

از طرفی پس از رفع ابهام، حاصل حد برابر $\frac{1}{2}$ می‌شود، پس:

$$\lim_{x \rightarrow 2} \frac{x - \sqrt{3x-2}}{ax+b} \stackrel{\text{Hop}}{=} \lim_{x \rightarrow 2} \frac{1 - \frac{3}{2\sqrt{3x-2}}}{a} = \frac{1 - \frac{3}{4}}{a} = \frac{1}{4a} = \frac{1}{2} \Rightarrow a = \frac{1}{2}$$

$2(\frac{1}{2}) + b = 0 \Rightarrow b = -1$

با جایگذاری a در **1** داریم:

Limits & Continuity

متناتی

صورتی

برای رفع ابهام کسرهای $\frac{0}{0}$ که در صورت و مخرج آن‌ها عبارت مثلثاتی وجود دارد، باید عامل صفر شونده در صورت و مخرج را به کمک اتحادهای جبری یا مثلثاتی، تجزیه یا فاکتورگیری از بین ببریم.

• برای محاسبه $\lim_{x \rightarrow \frac{\pi}{4}} \frac{\cos^2 x - \sin^2 x}{\cos x - \sin x}$ با جایگذاری $x = \frac{\pi}{4}$ در صورت و مخرج به ابهام $\frac{0}{0}$ می‌رسیم:

$$\lim_{x \rightarrow \frac{\pi}{4}} \frac{(\cos x - \sin x)(\cos^2 x + \sin x \cos x + \sin^2 x)}{\cos x - \sin x} = 1 + \sin \frac{\pi}{4} \cos \frac{\pi}{4} = 1 + \frac{\sqrt{2}}{2} \times \frac{\sqrt{2}}{2} = 1 + \frac{1}{2} = \frac{3}{2}$$

• اگر در صورت یا مخرج یک کسر، $\tan x$ وجود داشته باشد، به جای آن $\frac{\sin x}{\cos x}$ می‌نویسیم.

$$\lim_{x \rightarrow \frac{3\pi}{4}} \frac{\sin x + \cos x}{1 + \tan x} \stackrel{\text{رفع ابهام}}{=} \lim_{x \rightarrow \frac{3\pi}{4}} \frac{\sin x + \cos x}{1 + \frac{\sin x}{\cos x}} = \lim_{x \rightarrow \frac{3\pi}{4}} \frac{\sin x + \cos x}{\cos x + \sin x} = \lim_{x \rightarrow \frac{3\pi}{4}} \cos x = \cos \frac{3\pi}{4} = -\frac{\sqrt{2}}{2}$$

• برای محاسبه حدهای مثلثاتی، وقتی کمان آن‌ها به سمت صفر میل می‌کند،

می‌توانیم از هم‌ارزی مثلثاتی استفاده کنیم:

$\sin u \sim u$	$\cos u \sim 1 - \frac{u^2}{2}$	$\tan u \sim u$
$\sin^n u \sim u^n$	$\cos^n u \sim 1 - n \frac{u^2}{2}$	$\tan^n u \sim u^n$

• حاصل $\lim_{x \rightarrow 0^-} \frac{\sqrt{2-2\cos 2x}}{\tan x}$ را به دست آورید.

• چون $x \rightarrow 0^-$ می‌توانیم از هم‌ارزی‌های مثلثاتی استفاده کنیم:

$$\lim_{x \rightarrow 0^-} \frac{\sqrt{2-2\cos 2x}}{\tan x} = \lim_{x \rightarrow 0^-} \frac{\sqrt{2-2(1-\frac{4x^2}{2})}}{x} = \lim_{x \rightarrow 0^-} \frac{\sqrt{4x^2}}{x} = \lim_{x \rightarrow 0^-} \frac{2|x|}{x} = \lim_{x \rightarrow 0^-} \frac{-2x}{x} = -2$$

• اگر پس از استفاده از هم‌ارزی‌ها، همه عبارت‌های موجود در صورت یا مخرج کسر با هم ساده شوند، حاصل حد قابل اطمینان نیست. برای حل این مسائل باید از فاکتورگیری، اتحادها و گویا کردن استفاده کنیم و سپس حاصل حد را محاسبه کنیم.

Test حاصل $\lim_{x \rightarrow 1^+} \frac{\sin^2 \pi x}{[x] + \cos \pi x}$ کدام است؟

۲π (۴)


π (۳)

۲ (۲)

۱ (۱)

2 وقتی $x \rightarrow 1^+$ ، مقدار $[x]$ برابر ۱ است، پس:

$$\lim_{x \rightarrow 1^+} \frac{\sin^2 \pi x}{[x] + \cos \pi x} = \lim_{x \rightarrow 1^+} \frac{1 - \cos^2 \pi x}{1 + \cos \pi x} = \lim_{x \rightarrow 1^+} \frac{(1 - \cos \pi x)(1 + \cos \pi x)}{1 + \cos \pi x} = \lim_{x \rightarrow 1^+} (1 - \cos \pi x) = 1 - \cos \pi = 1 - (-1) = 2$$



Differentiation

Chapter 9

Lesson 1

صفحه ۶ تا ۷ کتاب دوازدهم

مفهوم مشتق

درس اول



Caucher
Birkar

Differentiation

شیب خط و خط مماس بر نمودار

مشتق

🍏 شیب خط برابر با نسبت تغییرات عمودی به تغییرات افقی است و به صورت زیر به دست می آید:

$$\text{شیب} = m = \tan \alpha = \frac{\Delta y}{\Delta x} = \frac{y_B - y_A}{x_B - x_A}$$

🍀 شیب خط گذرنده از دو نقطه $A(6, 11)$ و $B(8, -3)$ برابر است با: $m = \frac{-3 - 11}{8 - 6} = \frac{-14}{2} = -7$

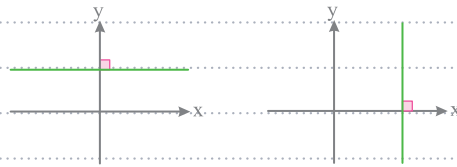
علامت شیب خط

<p>1] اگر زاویه ای که خط با جهت مثبت محور X ها می سازد حاده باشد، آنگاه شیب خط مثبت است. [و برعکس]</p> <p>$0^\circ < \alpha < 90^\circ$ $m > 0$</p>	<p>2] اگر زاویه ای که خط با جهت مثبت محور X ها می سازد منفرجه باشد، آنگاه شیب خط منفی است. [و برعکس]</p> <p>$90^\circ < \alpha < 180^\circ$ $m < 0$</p>
--	--

🍀 خط $y = 2x - 1$ با جهت مثبت محور X ها زاویه حاده می سازد، زیرا شیب آن برابر $m = 2$ است.

🍀 خط $20x + 5y = 6$ با جهت مثبت محور X ها زاویه منفرجه می سازد زیرا: $20x + 5y = 6 \Rightarrow m = -\frac{20}{5} = -4$

🍏 اگر خط موازی محور X ها باشد، آنگاه شیب آن برابر صفر و اگر خط موازی محور Y ها باشد، آنگاه شیب آن تعریف نمی شود.



$m = 0$... m تعریف نشده است.

🍏 برای مقایسه شیب خط ها به دو حالت زیر توجه کنید:

1] اگر شیب خط مثبت باشد، هرچه زاویه حاده خط با جهت مثبت محور X ها بیشتر باشد، شیب خط بزرگ تر می شود.

$m_3 > m_2 > m_1$

2] اگر شیب خط منفی باشد، هرچه زاویه منفرجه خط با جهت مثبت محور X ها کمتر باشد، خط ها به خط عمودی نزدیک تر شده، شیب ها کوچک تر می شوند. [اندازه شیب ها بزرگ تر می شود].

$m_3 > m_2 > m_1$

🍏 خطی را که از دو نقطه متمایز، روی یک منحنی می گذرد، خط قاطع می نامند.

در شکل مقابل، خط‌گذرنده از دو نقطه A و B ، یک خط قاطع برای نمودار تابع f است و شیب آن برابر است با:

$$\frac{\Delta y}{\Delta x} = \frac{f(x) - f(a)}{x - a}$$

در شکل مقابل اگر نقطه B را روی نمودار تابع f ، به نقطه A نزدیک و نزدیک‌تر کنیم، طول نقطه B یعنی x به ترتیب از روی نقاط 1، 2، 3، 4 و... عبور کرده و به a نزدیک می‌شود. بنابراین می‌توان گفت: نقاط A و B تقریباً برهم منطبق خواهند شد. پس وقتی نقطه B به قدر کافی به نقطه A نزدیک شود، شیب خط‌گذرنده از دو نقطه A و B برابر است با:

$$m = \lim_{x \rightarrow a} \frac{f(x) - f(a)}{x - a}$$

این خط را **خط مماس در نقطه A** می‌نامند.

اگر نقطه B به قدر کافی به A نزدیک شود، شیب خطوط قاطع AB به شیب خط مماس بر منحنی در نقطه A به طول a نزدیک می‌شود.

$$m_{\text{مماس}} = \lim_{x \rightarrow a} \frac{f(x) - f(a)}{x - a}$$

برای به دست آوردن شیب خط مماس بر منحنی $f(x) = x^2 - 2x$ در نقطه‌ای به طول $x = 1$ از تعریف شیب خط مماس استفاده می‌کنیم:

$$m_{\text{مماس}} = \lim_{x \rightarrow 1} \frac{f(x) - f(1)}{x - 1} = \lim_{x \rightarrow 1} \frac{(x^2 - 2x) - (-1)}{x - 1} = \lim_{x \rightarrow 1} \frac{x^2 - 2x + 1}{x - 1}$$

با جایگذاری $x = 1$ به ابهام $\frac{0}{0}$ می‌رسیم. بنابراین آن را رفع ابهام می‌کنیم:

$$m_{\text{مماس}} = \lim_{x \rightarrow 1} \frac{x^2 - 2x + 1}{x - 1} = \lim_{x \rightarrow 1} \frac{(x-1)^2}{x-1} = \lim_{x \rightarrow 1} (x-1) = 1 - 1 = 0$$

برای به دست آوردن شیب خط مماس بر منحنی $f(x) = x^3$ در نقطه‌ای به طول $x = 1$ از تعریف شیب خط مماس استفاده می‌کنیم:

$$m_{\text{مماس}} = \lim_{x \rightarrow 1} \frac{f(x) - f(1)}{x - 1} = \lim_{x \rightarrow 1} \frac{x^3 - 1}{x - 1}$$

با جایگذاری $x = 1$ به ابهام $\frac{0}{0}$ می‌رسیم. بنابراین آن را رفع ابهام می‌کنیم:

$$m_{\text{مماس}} = \lim_{x \rightarrow 1} \frac{x^3 - 1}{x - 1} = \lim_{x \rightarrow 1} \frac{(x-1)(x^2 + x + 1)}{x - 1} = \lim_{x \rightarrow 1} (x^2 + x + 1) = 3$$

دو نقطه A و B مطابق شکل روی نمودار تابع f قرار دارند. می‌دانیم اگر نقطه B را به قدر کافی به A نزدیک کنیم، شیب خط قاطع AB برابر با **شیب خط مماس بر نمودار f** در نقطه A می‌شود و مقدار آن برابر با $\lim_{x \rightarrow a} \frac{f(x) - f(a)}{x - a}$ است. مقدار این حد را [اگر موجود و متناهی باشد] مشتق تابع f در نقطه a می‌نامند و با $f'(a)$ نمایش می‌دهند:

$$f'(a) = \lim_{x \rightarrow a} \frac{f(x) - f(a)}{x - a}$$

اگر $x = a + h$ را برابر h در نظر بگیریم، آنگاه $x = a + h$ خواهد بود. در این صورت وقتی x به سمت a میل کند، مقدار h به سمت صفر میل می‌کند و تعریف مشتق تابع f در نقطه a به صورت زیر در می‌آید:

$$f'(a) = \lim_{h \rightarrow 0} \frac{f(a+h) - f(a)}{h}$$



Applications Of Derivatives

Chapter 10

Lesson 1

صفحه ۲ تا ۱۱۲ جواز دهم

اکسترمم های تابع

درس اول



Pythagoras

Applications
Of Derivatives

ارتباط یکنوایی با مشتق

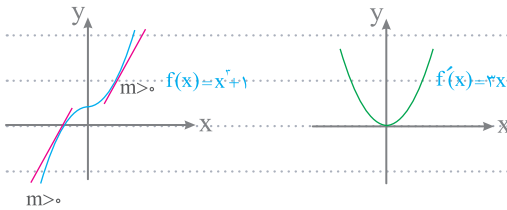
کاربردش

برای بررسی یکنوایی تابع مشتق پذیر f در بازه (a, b) ، مشتق تابع f را به دست می آوریم.

1 اگر $f'(x) > 0$ باشد، آنگاه شیب خط مماس بر f مثبت و در نتیجه تابع f اکیداً صعودی است.

2 اگر $f'(x) < 0$ باشد، آنگاه شیب خط مماس بر f منفی و در نتیجه تابع f اکیداً نزولی است.

3 اگر در برخی نقاط، $f'(x) = 0$ باشد، شیب خط مماس بر نمودار f موازی محور x ها است.



نمودار تابع $f(x) = x^2 + 1$ و مشتق آن به صورت مقابل است:

اگر ضابطه تابع مشتق پذیر f موجود باشد، برای بررسی وضعیت صعودی یا نزولی بودن آن در بازه (a, b) باید مشتق تابع را به دست آوریم؛ سپس جدول تعیین علامت را برای تابع f' رسم کنیم. در بازه هایی که $f'(x)$ مثبت باشد، تابع f اکیداً صعودی و در بازه هایی که $f'(x)$ منفی باشد، تابع f اکیداً نزولی است.

تابع $f(x) = x^3 - 6x^2 + 4x$ در \mathbb{R} مشتق پذیر است. مشخص کنید تابع f در کدام بازه ها صعودی و در کدام بازه ها نزولی است؟

باید جدول تعیین علامت f' را رسم کنیم:

x	$-\infty$	0	4	$+\infty$
f'	$+$	0	$-$	$+$
f	\nearrow		\searrow	\nearrow

$f'(x) = 3x^2 - 12x = 3x(x - 4)$

با توجه به جدول تعیین علامت مشتق، تابع در هر یک از بازه های $(-\infty, 0)$ و $(4, +\infty)$ اکیداً صعودی و در بازه $(0, 4)$ اکیداً نزولی است.

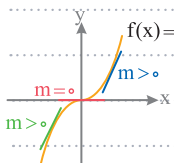
اگر در یک بازه، $f'(x) \geq 0$ در صورتی که مشتق تابع f در یک یا چند نقطه از این بازه برابر با صفر باشد، تابع f در این بازه اکیداً صعودی و اگر مشتق تابع f در قسمتی از این بازه برابر با صفر باشد، تابع f صعودی است. به همین ترتیب اگر در یک بازه، $f'(x) \leq 0$ در صورتی که مشتق تابع f در یک یا چند نقطه برابر با صفر باشد، تابع f اکیداً نزولی و اگر مشتق تابع f در قسمتی از این بازه برابر با صفر باشد، تابع f نزولی است.



از آن جایی که $f'(x)$ در بازه $(2, 4)$ برابر صفر است، چون $f'(x)$ فقط در نقاط صحیح برابر صفر است، پس تابع f صعودی است.

پس تابع f صعودی است.

تابع $f(x) = x^3$ تابعی اکیداً صعودی است. چون مشتق آن در نقطه $x = 0$ برابر صفر و در بقیه نقاط مثبت است.



نصرت رحمتی
طابرد شمس
استاد هیات تبحر

خرید آنلاین در
Gajmarket.com

Test تابع $f(x) = \frac{x}{x^2+1}$ در بازه $(-1, 1)$ چه وضعی دارد؟

- (۱) اکیداً صعودی (۲) اکیداً نزولی (۳) ابتدا صعودی، سپس نزولی (۴) ابتدا نزولی، سپس صعودی

۱ برای بررسی وضعیت یکنوایی تابع، ابتدا باید از آن مشتق بگیریم:

$$f(x) = \frac{x}{x^2+1} \Rightarrow f'(x) = \frac{(1)(x^2+1) - (2x)(x)}{(x^2+1)^2} = \frac{-x^2+1}{(x^2+1)^2}$$

سپس باید جدول تعیین علامت f' را رسم کنیم، از آن جایی که ریشه‌های $\frac{-x^2+1}{(x^2+1)^2} = 0$ برابر $x = -1$ و $x = 1$ هستند، داریم:

x	$-\infty$	-1	1	$+\infty$
f'	-	0	0	-
f	↘	↗	↘	
	نزولی	صعودی	نزولی	

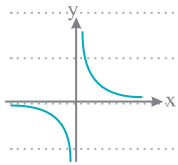
پس این تابع در بازه $(-1, 1)$ اکیداً صعودی است.

Applications of Derivatives

یکنوایی توابع درجه سوم و توابع کسری

کاربرد مشتق

🍏 تابع کسری f ، در بازه‌ای که شامل ریشهٔ مخرج کسر است، غیر یکنوا است.



• مشتق تابع $f(x) = \frac{1}{x}$ برابر $f'(x) = -\frac{1}{x^2}$ است. از آن جا که $x \neq 0$ ، ریشهٔ مخرج می‌باشد، تابع در این نقطه مشتق پذیر نیست. ولی مشتق این تابع در بقیهٔ نقاط دامنه یعنی $\mathbb{R} - \{0\}$ ، موجود و همواره مقداری منفی است.

🍊 مشتق تابع درجه سوم f ، یک تابع درجهٔ دوم به صورت زیر است:

$$f(x) = ax^3 + bx^2 + cx + d \Rightarrow f'(x) = 3ax^2 + 2bx + c$$

1) اگر بخواهیم تابع $f(x)$ نزولی باشد، باید $f'(x) \leq 0$ باشد، یعنی در تابع $f'(x)$ باید $a < 0$ و $\Delta_f \leq 0$ باشد.

• تابع $f(x) = -\frac{1}{3}x^3 + 2x^2 - 12x$ همواره نزولی است، زیرا:

$$f'(x) = -x^2 + 4x - 12 \Rightarrow \begin{cases} \text{ضریب } x^2 = -1 < 0 \\ \Delta = (4)^2 - 4(-1)(-12) = -32 \leq 0 \end{cases}$$

2) اگر بخواهیم تابع $f(x)$ صعودی باشد، باید $f'(x) \geq 0$ باشد. یعنی در تابع $f'(x)$ باید $a > 0$ و $\Delta_f \leq 0$ باشد.

• تابع $f(x) = x^3 - 3x^2 + 4x$ همواره صعودی است، زیرا:

$$f'(x) = 3x^2 - 6x + 4 \Rightarrow \begin{cases} \text{ضریب } x^2 = 3 > 0 \\ \Delta = (-6)^2 - 4(3)(4) = -12 \leq 0 \end{cases}$$

Test تابع با ضابطهٔ $f(x) = mx^3 + 2x^2 + \frac{m}{3}x - 1$ همواره صعودی است. حدود m کدام است؟

- (۱) $[-2, 2]$ (۲) $(-\infty, -2]$ (۳) $[-2, 0)$ (۴) $[2, +\infty)$

$$f'(x) = 3mx^2 + 4x + \frac{m}{3}$$

۴ ابتدا از تابع f مشتق می‌گیریم:

برای این‌که تابع f همواره صعودی باشد، باید مشتق آن بزرگ‌تر یا مساوی صفر باشد، بنابراین در تابع $f'(x)$ باید $a > 0$ و $\Delta \leq 0$ باشد:

1) $a > 0 \Rightarrow 3m > 0 \Rightarrow m > 0$

2) $\Delta = 4^2 - 4(3m)(\frac{m}{3}) \leq 0 \Rightarrow m^2 \geq 4 \Rightarrow \begin{cases} m \geq 2 \\ m \leq -2 \end{cases}$

از اشتراک جواب‌ها، مجموعه مقادیر قابل قبول برای m به صورت $[2, +\infty)$ است.



Count Without Counting

Chapter 11

Lesson. 1

صفحه ۱۱۸ تا ۱۲۶ ریاضی دهم

شماریش

درس اول



Martin Hainer

Count Without Counting

اصل ضرب و اصل جمع

شارش بدون شمردن

🍏 برای این که بتوانیم بدون شمارش بشماریم، مثلاً برای این که بدانیم چند عدد سه رقمی با ارقام متمایز وجود دارد یا مسائلی از این قبیل را حل و فصل کنیم، از اصولی استفاده می‌کنیم که به آن‌ها **اصول شمارش** گفته می‌شود. مهم‌ترین این اصول عبارت‌اند از: **اصل ضرب**، **اصل جمع** و ... که به تدریج به بررسی آن‌ها می‌پردازیم.

🍏 اگر انجام کاری شامل دو مرحله باشد، به طوری که برای انجام مرحله اول **m** روش و برای هر کدام از این روش‌ها، مرحله دوم را بتوان به **n** روش انجام داد، تعداد راه‌های انجام کار مورد نظر برابر با $m \times n$ است. [این اصل برای انجام پندین عمل نیز قابل تعمیم است].

🍏 این روش شمارش را در ریاضیات **اصل ضرب** می‌نامند. در واقع زمانی از اصل ضرب در محاسبه استفاده می‌کنیم که با **دو عمل متوالی** که کامل کننده هم هستند مواجه شویم؛ یعنی دو عمل که هیچ کدام باعث نفی دیگری نشود و بتوانند توأم با هم انجام شوند.

🍏 اصل ضرب در زبان فارسی، معادل کلمه «و» است؛ یعنی عمل اول «و» عمل دوم توأم با هم انجام می‌شوند؛ مثل «رفت و برگشت» یا «شلوار و پیراهن» و ...
 ● تعداد راه‌های پوشیدن ۳ شلوار و ۴ پیراهن کدام است؟

🟩 پوشیدن شلوار باعث نفی پوشیدن پیراهن نیست، و کامل کننده آن است. بنابراین تعداد راه‌ها طبق اصل ضرب برابر است با: $3 \times 4 = 12$

🍏 اگر کاری را بتوان به دو روش انجام داد، به طوری که در روش اول **m** انتخاب و در روش دوم **n** انتخاب وجود داشته باشد، تعداد روش‌هایی که این کار قابل انجام است برابر با $m + n$ است. [این اصل برای پندین عمل نیز قابل تعمیم است].

🍏 این روش شمارش را در ریاضیات **اصل جمع** می‌گویند. در واقع زمانی از اصل جمع در محاسبه استفاده می‌کنیم که با **دو عمل موازی** که نفی کننده یکدیگر هستند مواجه شویم؛ یعنی دو عملی که انجام یکی باعث لغو دیگری شود و توأم با هم نتوانند انجام شوند.

🍏 اصل جمع در زبان فارسی معادل کلمه «یا» است؛ یعنی عمل اول انجام می‌شود «یا» عمل دوم؛ به عنوان مثال مسافرت با قطار یا هواپیما بین دو شهر مختلف.

● تعداد راه‌های بستن ۳ کروات و ۲ پاپیون کدام است؟

🟩 یک شخص نمی‌تواند هم پاپیون ببندد و هم کروات، یعنی بستن یکی باعث نفی دیگری است. پس تعداد راه‌ها طبق اصل جمع برابر است با: $3 + 2 = 5$

Test در کارخانه بنز، نوعی اتومبیل در ۴ مدل، ۸ رنگ، ۳ حجم موتور مختلف ۲ دنده اتوماتیک و غیر اتوماتیک در ۳ تیپ بنزینی و گازوئیلی و برقی تولید می‌شود، در این کارخانه چند نوع اتومبیل دنده اتومات و غیر برقی تولید می‌شود؟

1) ۱۹۲ ۲) ۱۸۰ ۳) ۹۶ ۴) ۵۷۶

3 منظور از اتومبیل غیر برقی، بنزینی یا گازوئیلی است. بنابراین طبق اصل ضرب تعداد انواع اتومبیل برابر است با:

حجم موتور رنگ مدل
 $4 \times 8 \times 3 \times 1 \times 2 = 192$
 غیر برقی → نه اتومات

🍏 در مسائلی که صحبت از پرتاب سکه و تاس به میان می‌آید، باید توجه داشته باشیم که هر سکه برای ظاهر شدن ۲ حالت دارد یعنی {پشت، رو} $S = \{1, 2, 3, 4, 5, 6\}$ و هر تاس نیز ۶ حالت برای ظاهر شدن دارد یعنی $S = \{1, 2, 3, 4, 5, 6\}$ ، حال اگر چند سکه و تاس را با هم پرتاب کنیم، با دو حالت مواجه می‌شویم: **1** اگر هیچ محدودیتی نداشته باشند، تعداد حالات آن‌ها در هم ضرب می‌شود.

..... $6 \times 2 \times 2 = 24$ = تعداد حالات ۱ تاس و ۲ سکه $2 \times 2 \times 2 \times 2 = 16$ = تعداد حالات پرتاب ۴ سکه

..... $6 \times 6 \times 2 \times 2 \times 2 = 288$ = تعداد حالات پرتاب ۲ تاس و ۳ سکه $6 \times 6 = 36$ = تعداد حالات پرتاب ۲ تاس

2 اگر بعضی تاس‌ها یا سکه‌ها دارای شرط یا محدودیت باشند، باید آن شرط یا محدودیت را در نظر بگیریم و سپس از اصل ضرب استفاده کنیم.

..... $2 \times 6 = 12$ = تعداد حالات پرتاب یک تاس قرمز و یک تاس سبز به طوری که تاس سبز مضرب ۳ بیاید، کدام است؟
 $\{1, 2, 3, 4, 5, 6\}$ $\{3, 6\}$

🍏 مسائل مربوط به تعداد حالات فرزندان خانواده نیز همانند پرتاب سکه است چون جنسیت هر فرزند دارای ۲ حالت است.

..... در یک خانواده با ۵ فرزند اگر بدانیم فرزند وسط دختر است، تعداد حالت‌های ممکن برای جنسیت فرزندان این خانواده کدام است؟

..... $n = 2 \times 2 \times 1 \times 2 \times 2 = 16$

🍏 در بعضی از مسائل شمارش، تعداد جملات حاصل ضرب دو یا چند عبارت چند جمله‌ای را از ما می‌خواهند. در این موارد تعداد کل جملات در صورتی که پارامترهای به کار رفته در دو عبارت متمایز از هم باشند، برابر است با حاصل ضرب تعداد جملات آن عبارت‌ها.

..... $3 \times 2 = 6$ = تعداد جملات $(a+b+c)(d+e)$

🍏 در مواردی که دو عبارت حداقل دارای ۲ یک جمله‌ای مشابه باشند، امکان دارد تعداد کل جمله‌ها بعد از ساده کردن، کمتر از حاصل ضرب تعداد جملات دو عبارت باشد.

..... $(x+2)(x+y+5) = x^2 + xy + \underbrace{5x+2x}_{7x} + 2y + 10 = x^2 + xy + 7x + 2y + 10$

..... بسط عبارت $(a+b+c+d)(x-2y+z)$ را در نظر بگیرید:

..... $4 \times 3 = 12$ این بسط دارای چند جمله است؟

..... $2 \times 2 = 9$ تعداد جملاتی از بسط که فاقد a هستند کدام است؟

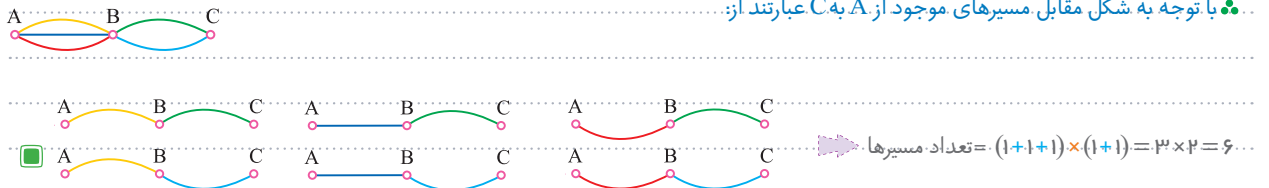
..... $4 \times 3 - 2 \times 2 = 6$ تعداد جملاتی از بسط که شامل a یا b هستند کدام است؟

Test یک تاس را سه بار پرتاب می‌کنیم. تعداد حالات مختلف بر زمین نشستن آن‌ها که پرتاب اول و سوم زوج و پرتاب دوم بزرگ‌تر از ۲ بیاید، کدام است؟

- 108 (۴) 36 (۳) 72 (۲) 27 (۱)
- 3** پرتاب اول و سوم هر کدام ۳ حالت و پرتاب دوم ۴ حالت دارد. بنابراین طبق اصل ضرب تعداد حالات برابر است با: $3 \times 4 \times 3 = 36$

🍏 در مسائل مربوط به مسیر (مدار)، راه‌هایی که با هم موازی هستند، تعدادشان با هم جمع می‌شود و راه‌هایی که با هم متوالی هستند، تعدادشان در هم ضرب می‌شود.

..... با توجه به شکل مقابل مسیری که موجود از A به C عبارتند از:




🍏 چند تیپ مهم از مسائل رفت و برگشت در مسیر:

1 اگر هیچ شرطی برای عبور از مسیرها وجود نداشت، تعداد حالت‌های رفت و برگشت در هم ضرب می‌شود. [پون رفتن باعث نمی‌برگشتن نیست].

..... در شکل مقابل، به $(2 \times 2) \times (2 \times 2)$ طریق می‌توان از A به B رفت و برگشت.





Probability

Chapter 12

Lesson 1 صفحه ۱۴۲ تا ۱۵۱ کتاب دهم احتمال سال دهم درس اول فضای نمونه احتمال

به پدیده‌ای که قبل از رخداد نتیجه‌اش معلوم نباشد، ولی مجموعه نتایج ممکن آن مشخص باشد، **آزمایش تصادفی** می‌گوییم. ... پرتاب تاس، پرتاب سکه، انتخاب مهره از جعبه، تولد فرزندان و ... همگی آزمایش‌های تصادفی هستند. ...

به مجموعه همه نتایج ممکن برای یک آزمایش تصادفی، **فضای نمونه** آن آزمایش تصادفی می‌گویند و آن را با S نشان می‌دهند. ... اگر یک وجه تاسی سفید و روی و وجه دیگر آن، اعداد ۱، ۲، ۳، ۴، ۵، ۶ حک شده باشد، چون فضای نمونه، مجموعه همه نتایج ممکن است و «سفید آمدن» نیز یکی از این نتایج است، بنابراین فضای نمونه به صورت $S = \{1, 2, 3, 4, 5, 6\}$ می‌باشد که دارای ۶ عضو است. ...

چند فضای نمونه مشهور: ...

1) فضای نمونه پرتاب n سکه، دارای $2^n = 2 \times 2 \times \dots \times 2$ عضو است [فضای نمونه تولد n فرزند نیز به همین صورت است]. ...

2) فضای نمونه پرتاب سه سکه را بنویسید: ...

3) فضای نمونه پرتاب دو تاس را بنویسید: ...

2) فضای نمونه پرتاب n تاس، دارای $6^n = 6 \times 6 \times \dots \times 6$ عضو است. ...

3) فضای نمونه‌ای که مهره‌های رنگی در آن وجود داشته باشد، چه مهره‌ها متمایز باشند و چه مشابه، برای حل مسئله‌های احتمال باید آن‌ها را متمایز فرض کنیم و براین اساس تعداد عضوهای فضای نمونه را به دست آوریم. ...

4) فضای نمونه‌ای پرتاب n تاس و m سکه دارای $6^n \times 2^m$ عضو است. ...

3) اگر در جعبه‌ای ۳ مهره قرمز مشابه و ۲ مهره آبی مشابه وجود داشته باشد یک مهره به تصادف از ظرف خارج کنیم، فضای نمونه دارای ۵ عضو است. ...

4) $S = \{R_1, R_2, R_3, B_1, B_2\}$...

Test در خانواده‌ای با ۲ فرزند اگر فرزندان دو قلو باشند، فضای نمونه جنسیت فرزندان دارای عضو است.

۴ (۲)	۳ (۱)
۱ (۴)	۲ (۳)

2) دو قلو بودن فرزندان در جنسیت آن‌ها تأثیری ندارد. از طرفی جنسیت هر فرزند دو حالت دارد؛ بنابراین فضای نمونه جنسیت فرزندان این خانواده $2^2 = 4$ عضو دارد.

فضای نمونه احتمال سال دهم

خرید آنلاین در Gajmarket.com

هر زیرمجموعه از فضای نمونه را یک **پیشامد** و هر یک از اعضای یک پیشامد را **برآمد** می نامند. پیشامدها را معمولاً با A, B, C, \dots نشان می دهند. ...
 ... در پرتاب یک تاس، پیشامد مضرب ۳، آمدن به صورت $A = \{۳, ۶\}$ و در پرتاب سه سکه، پیشامد «دقیقاً دو بار رو آمدن» مجموعه ای ۳ عضوی به صورت $\{(ر, پ, پ), (ر, ر, پ), (پ, ر, ر)\}$ است.

در هر فضای نمونه مانند S ، خود S پیشامد قطعی و \emptyset را پیشامد غیرممکن می نامند.

اگر فضای نمونه دارای n عضو باشد برای آن می توان 2^n پیشامد در نظر گرفت، چون هر عضو از فضای نمونه می تواند در پیشامد حضور داشته باشد یا نه.

(To be OR not to be...)

هنگامی می گوئیم یک پیشامد رخ داده است که نتیجه آزمایش، یکی از عضوهای آن پیشامد باشد [یعنی بعد از انجام آزمایش، یکی از اعضای آن پیشامد دیده شود].

وقتی گفته می شود در پرتاب یک تاس پیشامد زوج بودن رخ داده است، یعنی بعد از پرتاب تاس یا ۲ آمده یا ۴ آمده یا ۶ آمده است.

هرگز امکان ندارد دو برآمد مختلف از یک فضای نمونه با هم دیده شوند. اما امکان رخ دادن دو پیشامد مختلف با هم وجود دارد. ...
 امکان ندارد در پرتاب یک تاس برآمد ۲ و برآمد ۴ با هم رخ دهند، اما ممکن است پیشامد زوج آمدن و پیشامد عدد اول آمدن با هم رخ دهند و آن هم زمانی است که ۲ بیاید.

Fast یک تاس را پرتاب کردیم و ۳ ظاهر شده است، در این صورت کدام یک از پیشامدهای زیر رخ نداده است؟

۱) پیشامد عدد اول آمدن

۲) پیشامد فرد آمدن

۳) پیشامد نابیشتر از ۲ آمدن

۴) پیشامد مضرب ۳ آمدن

3 هر پیشامدی که ۳ عضو آن باشد رخ داده است، بنابراین به بررسی گزینه ها می پردازیم:

۱) $A = \{۲, ۳, ۵\}$

۲) $B = \{۱, ۳, ۵\}$

۳) $C = \{۱, ۲\}$

۴) $D = \{۳, ۶\}$

در مسائل مربوط به پیشامدها در پرتاب چند سکه معمولاً با سه تیپ مسئله ممکن است مواجه شویم:

1) در پرتاب چند سکه [یا تولد چند فرزند در یک خانواده] اگر وضعیت بعضی از پرتاب ها [جنسیت بعضی از فرزندان] را معلوم کنند، تعداد حالات آن ها را برابر ۱ در نظر می گیریم و سایر پرتاب ها [سایر فرزندان] همچنان ۲ حالت خواهند داشت، سپس طبق اصل ضرب تعداد عضوهای پیشامد را پیدا می کنیم.

2) در خانواده ای با ۵ فرزند، پیشامد A که در آن «فرزند بزرگتر، پسر و فرزند کوچکتر، دختر باشد»، چند عضو دارد؟

3) فرزند بزرگ و فرزند کوچک هر کدام یک حالت دارند و بقیه فرزندان هر کدام دو حالت دارند؛ بنابراین تعداد اعضای این پیشامد برابر است با:

$$n(A) = 1 \times 2 \times 2 \times 2 \times 1 = 8$$

2) در پرتاب چند سکه [تولد چند فرزند] اگر صحبت از تعداد «رو»ها و «پشت»ها [تعداد پسرها و دخترها] به میان آمده بود، از «انتخاب» استفاده می کنیم.

3) در یک خانواده چهار فرزندی هر یک از پیشامدهای زیر چند عضو دارد؟

• پیشامد دقیقاً سه فرزند پسر $n(A) = \binom{4}{3} = 4$ • پیشامد دقیقاً یک فرزند دختر $n(B) = \binom{4}{1} = 4$

• پیشامد حداقل سه فرزند پسر $n(C) = \binom{4}{3} + \binom{4}{4} = 5$ • پیشامد حداکثر دو فرزند دختر $n(D) = \binom{4}{0} + \binom{4}{1} + \binom{4}{2} = 11$



Basic Geometry

Chapter 14

Lesson 1

صفحه ۲۶ تا ۳۰ ریاضی یازدهم

ترسیم های هندسی

درس اول



Andrew Wiles

Basic Geometry

مکان هندسی

هندسه پایه

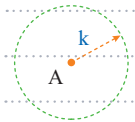
در این درس با انواع **ترسیم های هندسی** سروکار داریم و منظور از ترسیم های هندسی رسم سه دسته مهم از اشکال هندسه است:

- اشکالی مانند پاره خط، نیم خط و خط راست.
- اشکالی مانند دایره یا کمانی از یک دایره.
- اشکالی مانند مثلث، چهارضلعی و... که با ترکیبی از دو ترسیم قبلی حاصل می شوند.

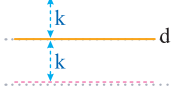
برای رسم این اشکال از دو وسیله مهم به نام **خطکش** و **پرگار** استفاده می شود که خطکش فقط برای ترسیم خط راست مورد استفاده قرار می گیرد [نه برای اندازه گیری] و پرگار وسیله ای است که با آن می توان دایره یا کمانی از دایره را رسم کرد و دهانه آن به اندازه دلخواه باز می شود.

بسیاری از اشکالی که رسم می کنیم مجموعه نقاطی هستند که ویژگی مشترکی دارند، این مجموعه نقاط را **مکان هندسی** می نامیم. [گاهی به آن مکان نقطه نیز گفته می شود]. از طرفی مهم ترین اشکال هندسی **نقطه**، **خط** و **صفحه** هستند، بنابراین مکان هندسی نقاطی از صفحه که از یک نقطه و یک خط به فاصله ثابتی هستند، اهمیت ویژه ای دارد:

1 مکان هندسی نقاطی از صفحه که به فاصله k واحد از نقطه A قرار دارند، دایره ای به مرکز A و به شعاع k است.



2 مکان هندسی نقاطی از صفحه که به فاصله k واحد از خط d قرار دارند، دو خط به موازات خط d و به فاصله k واحد از آن هستند.



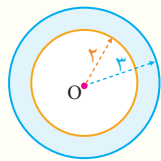
Test همه نقاطی از صفحه که فاصله آن ها از نقطه ثابت O در این صفحه بیشتر از ۲ و کمتر از ۳ واحد است، تشکیل یک شکل هندسی می دهند. مساحت این شکل چقدر است؟

$$7\pi (4)$$

$$4\pi (3)$$

$$9\pi (2)$$

$$5\pi (1)$$



1 نقاطی که فاصله آن ها از O بیشتر از ۲ واحد باشد، بیرون دایره ای به مرکز O و شعاع ۲ واحد هستند، همچنین نقاطی که فاصله آن ها از O کمتر از ۳ واحد باشد، داخل دایره ای به مرکز O و شعاع ۳ واحد قرار می گیرند. پس شکل هندسی مورد نظر ناحیه بین دو دایره (قسمت رنگی) است و مساحت آن برابر است با:

$$\pi(3)^2 - \pi(2)^2 = 9\pi - 4\pi = 5\pi$$

مساحت ناحیه رنگی = مساحت دایره کوچک - مساحت دایره بزرگ

Basic Geometry

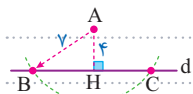
اشتراک یک مکان هندسی و یک شکل هندسی

هندسه پایه

در برخی از سوالات هندسه از ما می پرسند «چند نقطه روی یک شکل وجود دارد که دارای ویژگی به خصوصی باشد». در این موارد ابتدا مکان هندسی نقاطی که آن ویژگی به خصوص دارند را پیدا می کنیم و سپس به بررسی تعداد نقاط تقاطع آن مکان هندسی و شکل گفته شده می پردازیم.

1 نقطه A به فاصله ۴ واحد از خط d واقع است. چند نقطه روی خط d به فاصله ۷ واحد از نقطه A وجود دارد؟

2 نقاطی که به فاصله ۷ واحد از نقطه A قرار دارند روی دایره ای به مرکز A و به شعاع ۷ قرار دارند و چون $7 > 4$ است، پس این دایره [به عنوان یک مکان هندسی] خط d را در ۲ نقطه قطع می کند و همین نقاط، جواب های مورد نظر هستند.



فصل ۲ درس ۱ هندسه پایه - ترسیم های هندسی

فراخوانی: گاجمارکت.com



Analytic Geometry

Chapter 15

Lesson .1

صفحه ۲ تا ۱۰ کتاب یازدهم

هندسه مختصاتی (تحلیلی)

درس اول



Alain Connes

Analytic Geometry

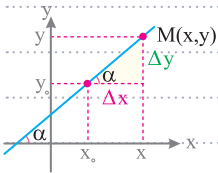
نوشتن معادله خط با معلوم بودن شیب و مختصات یک نقطه

هندسه تحلیلی

🍏 اگر در یک دستگاه مختصات، یک شکل هندسی مانند خط، دایره، بیضی و ... قرار داشته باشد می‌توانیم بین مختصات تمام نقاط این شکل‌ها، رابطه‌ای ریاضی پیدا کنیم. به این رابطه جبری، معادله شکل هندسی می‌گویند.

🍏 برای به دست آوردن معادله یک شکل هندسی کافیست که نقطه‌ای مانند $M(x, y)$ به عنوان نماینده همه نقاط آن شکل، در نظر بگیریم و رابطه بین x ، y را براساس ویژگی‌های آن شکل پیدا کنیم.

🍏 اگر خط d از نقطه $A(x_0, y_0)$ بگذرد و با جهت مثبت محور x زاویه α بسازد آنگاه با توجه به شکل می‌توانیم شیب خط d را به صورت زیر به دست آوریم:



$$m = \tan \alpha = \frac{\Delta y}{\Delta x} = \frac{y - y_0}{x - x_0}$$

بنابراین معادله خط d به صورت زیر به دست می‌آید:

$$y - y_0 = m(x - x_0)$$

🍏 معادله خط گذرنده از نقطه $(1, 2)$ با شیب $\frac{-3}{5}$ به صورت زیر به دست می‌آید:

$$\square y - 2 = \frac{-3}{5}(x - 1) \Rightarrow 5y - 10 = -3x + 3 \Rightarrow 3x + 5y - 13 = 0$$

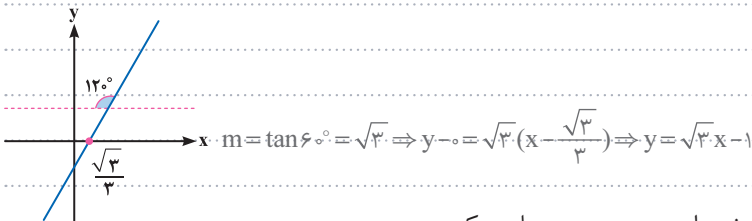
🍏 اگر معادله خط d را مرتب کنیم آنگاه به معادله‌ای به شکل زیر خواهیم رسید:

$$ax + by + c = 0$$

🍏 اگر معادله d به صورت $7x + 12y = 4$ باشد شیب این خط کدام است؟

$$\square 7x + 12y = 4 \Rightarrow 12y = -7x + 4 \Rightarrow y = -\frac{7}{12}x + \frac{4}{12}$$

🍏 با توجه به شکل زیر زاویه‌ای که خط با جهت مثبت محور x می‌سازد برابر با 60° است. در ضمن این خط از نقطه $(\frac{\sqrt{3}}{3}, 0)$ می‌گذرد پس معادله این خط به صورت زیر به دست می‌آید:



🍏 برای پیدا کردن محل برخورد یک خط با محورهای مختصات به صورت زیر عمل می‌کنیم:

📌 اگر خط d محور x را در نقطه A قطع کند برای یافتن مختصات نقطه A کافیست که در معادله خط، y را مساوی صفر قرار دهیم.